

AGENTE ADMINISTRATIVO

Código: 101

LEIA COM ATENÇÃO AS SEGUINTE INSTRUÇÕES

1. Este caderno contém as questões da **Prova Objetiva** e a **Redação**.
2. Use o rascunho da Folha de Respostas da Prova Objetiva reproduzido ao final deste caderno apenas para marcar o Gabarito.
3. Ao receber a **Folha de Respostas** da **Prova Objetiva** e o **Caderno de Redações**:
 - Confira seu nome, número de inscrição e o cargo.
 - Assine, **A TINTA**, no espaço próprio indicado.

4. **ATENÇÃO**: transcreva no espaço apropriado da sua **FOLHA DE RESPOSTAS**, com sua caligrafia usual, mantendo as letras maiúsculas e minúsculas, desconsiderando aspas e autoria, a seguinte frase:

“A imaginação é mais importante que o conhecimento.” Albert Einstein

ATENÇÃO:

FOLHAS DE RESPOSTAS SEM ASSINATURA NÃO TÊM VALIDADE.

5. Ao transferir as respostas para a **Folha de Respostas**:

01 • use apenas caneta esferográfica azul ou preta;

02 • preencha, sem forçar o papel, toda a área reservada à letra correspondente à resposta solicitada em cada questão;

03 • assinale somente **uma** alternativa em cada questão.

04 Sua resposta **NÃO** será computada se houver marcação de mais de uma alternativa, questões não assinaladas ou rasuras.

NÃO DEIXE NENHUMA QUESTÃO SEM RESPOSTA.

As **Folhas de Respostas** não devem ser dobradas, amassadas ou rasuradas.

ATENÇÃO: Será vedado ao candidato o porte de arma(s) no local de realização das provas, ainda que de posse de documento oficial de licença para o respectivo porte. As instruções constantes no Caderno de Provas e na Folha de Respostas da Prova Objetiva Múltipla Escolha, bem como as orientações e instruções expedidas pela FUNDEP durante a realização das provas, complementam o Edital e deverão ser rigorosamente observadas e seguidas pelo candidato. O candidato somente poderá se retirar do recinto de aplicação de prova após decorridas 2 horas de seu início. Durante a realização da Prova Objetiva, não será permitida a comunicação entre os candidatos, bem como consulta de qualquer natureza a livros, revistas, folhetos ou anotações e nem o uso de aparelhos eletrônicos ou eletromecânicos; como também o uso de boné, boina, chapéu, gorro, lenço ou qualquer outro acessório que impeça a visão total das orelhas do candidato; não será permitido, também, o uso de óculos escuros, sendo eliminado o candidato que descumprir essas determinações. Ao terminar a Prova Objetiva, o candidato entregará ao fiscal o Caderno de Provas, a Folha de Respostas da Prova Objetiva e o Caderno de Prova de Redação, devidamente assinados nos locais apropriados. Ao término do prazo estabelecido para a prova, os três últimos candidatos deverão permanecer na sala até que o último candidato termine sua prova, devendo todos assinar a Ata de Sala, atestando a idoneidade da fiscalização das provas, retirando-se da sala de prova de uma só vez.

O caderno de questões e o gabarito da Prova Objetiva serão divulgados no endereço eletrônico www.gestaodeconcursos.com.br no dia 29 de maio de 2017.

DURAÇÃO MÁXIMA DA PROVA: 4 (QUATRO) HORAS

ATENÇÃO

Sr.(a) Candidato(a),

Antes de começar a fazer a prova, confira se este caderno contém, ao todo, **40 (quarenta) questões de múltipla escolha**, cada uma constituída de 4 (quatro) alternativas de respostas, assim distribuídas: 15 (quinze) questões de **Língua Portuguesa**, 5 (cinco) questões de **Matemática**, 5 (cinco) questões de **Legislação**, 5 (cinco) questões de **Informática**, 10 (dez) questões de **Conhecimentos Específicos** e o tema de **Redação**, todas perfeitamente legíveis.

Havendo algum problema, informe **imediatamente** ao aplicador de provas para que ele tome as providências necessárias.

Caso não observe essa recomendação, não lhe caberá qualquer reclamação ou recursos posteriores.

INSTRUÇÃO: Leia o texto, a seguir, para responder às questões de 1 a 15.

Risco pediátrico

O Tribunal de Contas da União (TCU) pediu acesso ao resultado de centenas de fiscalizações realizadas pelos Conselhos Regionais de Medicina (CRMs) ao longo de 2015. Em meio ao calhamaço de informações, um ponto se destaca: o descaso para com a infraestrutura da rede pública de atenção primária.

É justamente nas 41 mil unidades básicas de saúde (UBS) espalhadas pelo país que os pacientes deveriam ter acesso às ações de promoção da saúde, de prevenção de doenças e de cuidados.

Plenamente eficientes, ajudariam a reduzir a incidência de doenças e a controlar os problemas crônicos, com menos sequelas e mortes, esvaziando hospitais e, o que mais gostam de ouvir os gestores, diminuindo custos. Contudo, os dados mostram uma rede à margem de suas possibilidades. [...]

Das 1.266 UBS vistoriadas pelos CRMs em 2015, um total de 739 (58%) apresentava mais de 30 itens em desconformidade com o estabelecido pelas normas legais em vigor. Sob a responsabilidade dos atuais gestores, deixaram de cumprir exigências criadas pelo próprio Ministério da Saúde.

O descaso transparece em contextos incompatíveis com a dignidade humana e a responsabilidade técnica. Em 41% das unidades, não havia um negatoscópio (aparelho para avaliar uma radiografia) e a falta de estetoscópio foi registrada em 23% das fiscalizações.

A precariedade das instalações em locais onde a limpeza é fundamental também foi percebida. Em 3% das UBS visitadas não havia sanitários para os funcionários; em 8% faltavam pias ou lavabos; sabonete líquido e papel toalha eram itens faltantes em 16% das unidades.

A pediatria é uma das especialidades que mais sofrem com essa situação, que beira o surreal. No Brasil, há 35 mil especialistas na área. Pouco mais de 70% deles atuam na rede pública, principalmente nessa rede que carece de quase tudo. Mesmo assim, num contexto completamente adverso, eles têm se desdobrado para oferecer às crianças e adolescentes o mínimo do que precisam.

Por isso, cuidam da saúde de 50 milhões de brasileiros, com idades de 0 a 18 anos, que dependem exclusivamente do Sistema Único de Saúde (SUS) para ter acesso a consultas médicas, exames, internações e cirurgias. No entanto, no cenário atual, profissionais e pacientes enfrentam situações-limite, que causam desespero nas famílias e impõem dilemas éticos aos médicos, cerceados por fatores que fogem ao seu controle.

Em nome da saúde e do bem-estar dos jovens brasileiros, essa realidade deve ser transformada com urgência. Nesse contexto, a assistência pediátrica de qualidade tem de ser vista como prioridade, pois se ocupa fundamentalmente daqueles que, mais que todos, precisam de uma sociedade que respeite a cidadania.

SILVA, Luciana Rodrigues; FERREIRA, Sidnei. Risco pediátrico. *CFM*. Disponível em: <<http://migre.me/wf9Wn>>. Acesso em: 15 mar. 2017 (Fragmento adaptado).

QUESTÃO 1

Assinale o trecho que **melhor** justifica o título do texto.

- A) “A precariedade das instalações em locais onde a limpeza é fundamental também foi percebida.”
- B) “A falta de instalações adequadas, de equipamentos e insumos não permite que as equipes cumpram suas missões.”
- C) “Pouco mais de 70% deles atuam na rede pública, principalmente nessa rede que carece de quase tudo.”
- D) “Em meio ao calhamaço de informações, um ponto se destaca: o descaso para com a infraestrutura da rede pública de atenção primária.”

QUESTÃO 2

São motivos que, de acordo com o texto, indicam precariedade na infraestrutura da rede pública de atenção primária, **EXCETO**:

- A) Falta de equipamentos médicos.
- B) Falta de materiais de higiene.
- C) Falta de infraestrutura.
- D) Falta de profissionais capacitados.

QUESTÃO 3

São elementos utilizados pelos autores no decorrer do texto, **EXCETO**:

- A) Ironia.
- B) Dados estatísticos.
- C) Argumentação lógica, por causa e consequência.
- D) Apelo sentimental.

QUESTÃO 4

Releia o trecho a seguir.

“No entanto, no cenário atual, profissionais e pacientes enfrentam situações-limite, que causam desespero nas famílias e impõem dilemas éticos aos médicos, **cerceados** por fatores que fogem ao seu controle.”

O verbo “cercear”, destacado nesse trecho, pode ser substituído por:

- A) abolir
- B) limitar.
- C) suprimir.
- D) cortar.

QUESTÃO 5

Releia o trecho a seguir.

“Plenamente eficientes, ajudariam a reduzir a incidência de doenças e a controlar os problemas crônicos, com menos sequelas e mortes, esvaziando hospitais e, o que mais gostam de ouvir os gestores, diminuindo custos. **Contudo**, os dados mostram uma rede à margem de suas possibilidades.”

Assinale a alternativa em que a reescrita do trecho mantém o sentido original desse trecho.

- A) Plenamente eficientes, ajudariam a reduzir a incidência de doenças e a controlar os problemas crônicos, com menos sequelas e mortes, esvaziando hospitais e, o que mais gostam de ouvir os gestores, diminuindo custos. **Portanto**, os dados mostram uma rede à margem de suas possibilidades.
- B) Plenamente eficientes, ajudariam a reduzir a incidência de doenças e a controlar os problemas crônicos, com menos sequelas e mortes, esvaziando hospitais e, o que mais gostam de ouvir os gestores, diminuindo custos. **Todavia**, os dados mostram uma rede à margem de suas possibilidades.
- C) Plenamente eficientes, ajudariam a reduzir a incidência de doenças e a controlar os problemas crônicos, com menos sequelas e mortes, esvaziando hospitais e, o que mais gostam de ouvir os gestores, diminuindo custos. **Consequentemente**, os dados mostram uma rede à margem de suas possibilidades.
- D) Plenamente eficientes, ajudariam a reduzir a incidência de doenças e a controlar os problemas crônicos, com menos sequelas e mortes, esvaziando hospitais e, o que mais gostam de ouvir os gestores, diminuindo custos. **Conforme**, os dados mostram uma rede à margem de suas possibilidades.

QUESTÃO 6

Assinale a alternativa cuja ideia entre colchetes **não** está presente no respectivo trecho.

- A) “Das 1.266 UBS vistoriadas pelos CMRs em 2015, um total de 739 (58%) apresentava mais de 30 itens em desconformidade com o estabelecido pelas normas legais em vigor.” [MAIORIA]
- B) “Em meio ao calhamaço de informações, um ponto se destaca: o descaso para com a infraestrutura da rede pública de atenção primária.” [EXCLUSIVIDADE]
- C) “[...] essa realidade deve ser transformada com urgência.” [PREMÊNCIA]
- D) “Pouco mais de 70% deles atuam na rede pública, principalmente nessa rede que carece de quase tudo.” [MAIORIA]

QUESTÃO 7

Releia o trecho a seguir.

“A precariedade das instalações em locais **onde** a limpeza é fundamental também foi percebida.”

Em relação à palavra destacada, de acordo com a norma padrão da língua portuguesa, assinale alternativa **CORRETA**.

- A) É usada com verbos que indicam movimento.
- B) Pode ser substituída por “aonde”.
- C) Foi utilizado corretamente, assim como em “Existem lances onde os juizes erram”.
- D) Pode ser substituída pela locução “em que”.

QUESTÃO 8

Releia o trecho a seguir.

“[...] os dados mostram uma rede **à margem de** suas possibilidades.”

De acordo com o que pode ser interpretado do texto, a locução destacada indica que a rede:

- A) necessita de melhor infraestrutura.
- B) é superdimensionada.
- C) poderia ser melhor aproveitada.
- D) atende um método de pacientes superior ao que é capaz.

QUESTÃO 9

Releia o trecho a seguir.

“Em 41% das unidades, não havia um negatoscópio (aparelho para avaliar uma radiografia) [...]”

De acordo com a norma padrão da língua portuguesa e com o contexto em que aparecem, assinale a alternativa **incorreta** sobre o uso dos parênteses.

- A) Podem ser substituídos por travessões.
- B) Servem para inserir uma nova informação no texto.
- C) Podem ser substituídos por vírgulas.
- D) Servem para demarcar uma oração fora do contexto textual.

QUESTÃO 10

Releia o trecho a seguir.

“[...] eles têm se desdobrado para oferecer às crianças e adolescentes o mínimo do que precisam.”

Analise as afirmativas a seguir a respeito do acento indicativo de crase desse trecho.

- I. É regido pelo verbo “oferecer”.
- II. Indica a fusão de um artigo com uma preposição.
- III. É facultativo.

De acordo com a norma padrão da língua portuguesa, estão **corretas** as afirmativas:

- A) I e II, apenas.
- B) I e III, apenas.
- C) II e III, apenas.
- D) I, II e III.

QUESTÃO 11

Releia o trecho a seguir.

“Nesse contexto, a assistência pediátrica de qualidade tem de ser vista como prioridade, **pois** se ocupa fundamentalmente daqueles que, mais que todos, precisam de uma sociedade que respeite a cidadania.”

A conjunção destacada confere a esse trecho uma ideia de:

- A) explicação.
- B) conclusão.
- C) condição.
- D) tempo.

QUESTÃO 12

Releia o trecho a seguir.

“Em 41% das unidades, não havia um negatoscópio (aparelho para avaliar uma radiografia) e a falta de estetoscópio foi registrada em 23% das fiscalizações.”

O substantivo “negatoscópio” é formado por “negato” (de negativo) e o elemento “-scópio”, assim como “estetoscópio” é formado por “esteto-” (peito) e o mesmo elemento “-scópio”. De forma semelhante existem diversas outras palavras com esse tipo de formação, como microscópio, caleidoscópio, telescópio e outras.

A esse respeito, assinale a alternativa que apresenta o significado do elemento “-scópio”.

- A) Instrumento para observar.
- B) Dispositivo para isolar.
- C) Instrumento para auscultar.
- D) Dispositivo para cortar.

QUESTÃO 13

O texto apresentado é, predominantemente, um(a):

- A) notícia, porque o texto se limita a expor os fatos, sem emitir opiniões.
- B) artigo de opinião, pois é possível verificar, pela leitura do texto, um determinado ponto de vista.
- C) artigo científico, pois vale-se de dados científicos para embasar o texto.
- D) resenha, uma vez que analisa e expõe os dados de uma pesquisa realizada.

QUESTÃO 14

Releia o trecho a seguir.

“Por isso, **cuidam** da saúde de 50 milhões de brasileiros, com idades de 0 a 18 anos, que **dependem** exclusivamente do Sistema Único de Saúde (SUS) para ter acesso a consultas médicas, exames, internações e cirurgias. No entanto, no cenário atual, profissionais e pacientes **enfrentam** situações-limite, que **causam** desespero nas famílias e **impõem** dilemas éticos aos médicos, cerceados por fatores que fogem ao seu controle.”

Em relação aos verbos destacados, analise as afirmativas a seguir.

- I. Estão flexionados no mesmo tempo verbal.
- II. Estão flexionados na mesma pessoa do discurso.
- III. Estão flexionados no mesmo modo.

De acordo com a norma padrão da língua portuguesa, estão **corretas** as afirmativas:

- A) I e II, apenas.
- B) I e III, apenas.
- C) II e III, apenas.
- D) I, II e III.

QUESTÃO 15

Releia o trecho a seguir.

“O descaso transparece em contextos **incompatíveis** com a dignidade **humana** e a responsabilidade **técnica**. Em 41% das unidades, não havia um negatoscópio (aparelho para avaliar uma radiografia) e a falta de estetoscópio foi registrada em 23% das **fiscalizações**.”

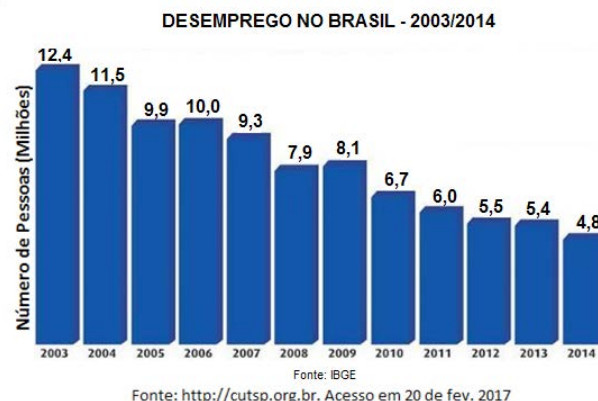
Assinale a alternativa em que a palavra destacada **não** qualifica outra nesse trecho.

- A) Incompatíveis
- B) Humana
- C) Técnica
- D) Fiscalizações

MATEMÁTICA

QUESTÃO 16

Observe o gráfico que mostra o número de desempregados no Brasil no período de 2003 a 2014.



A partir dos dados apresentados no gráfico, é **possível** afirmar que:

- A) houve uma diminuição do número de desempregados de 2008 para 2009.
- B) o ano em que houve o maior número de desempregados foi 2014.
- C) houve um aumento do número de desempregados de 2012 para 2013.
- D) o número de desempregados aumentou de 2005 para 2006.

QUESTÃO 17

Observe a tabela que mostra as contas que Mariana paga mensalmente utilizando o débito automático em sua conta bancária.

Conta	Valor	Data do débito automático
Água	R\$ 124,15	Todo dia 10 de cada mês
Energia elétrica	R\$ 185,10	
Telefone	R\$ 132,52	

No dia 8 de fevereiro de 2017, ela foi ao banco e verificou que o saldo de sua conta corrente estava negativo em R\$ 358,00.

Quanto Mariana teve que depositar para que no dia 12 de fevereiro tivesse um saldo positivo de R\$ 150,00?

- A) R\$ 441,77
- B) R\$ 799,77
- C) R\$ 817,77
- D) R\$ 949,77

QUESTÃO 18

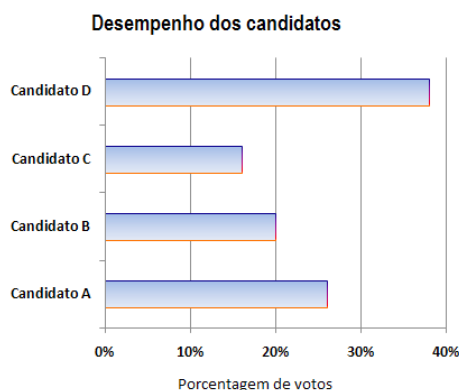
João participou da última edição da Volta Internacional da Pampulha, uma das grandes provas do calendário brasileiro, realizada no primeiro domingo de dezembro em Belo Horizonte. O percurso total dessa prova é de 17,8 km. João conseguiu percorrer 9,75 km da prova.

Quantos quilômetros faltaram para ele concluir o percurso?

- A) 28,55 km
- B) 17,80 km
- C) 9,75 km
- D) 8,05 km

QUESTÃO 19

Observe o gráfico que mostra o desempenho de quatro candidatos na eleição para presidente do Sindicato dos Servidores de Saúde da cidade de Pontal.



A sequência de candidatos que representa a classificação final dessa eleição em ordem decrescente é:

- A) C; B; A; D.
- B) D; B; A; C.
- C) D; A; B; C.
- D) C; D; A; B.

QUESTÃO 20

Veja, a seguir, a oferta da loja Magazine Bom Preço:

Aproveite a Promoção!

Forno Micro-ondas

De R\$ 720,00

Por apenas R\$ 504,00

Nessa oferta, o desconto é de:

- A) 70%.
- B) 50%.
- C) 30%.
- D) 10%.

LEGISLAÇÃO

QUESTÃO 21

Entre os conselheiros do Conselho Federal de Medicina, **não** há representantes:

- A) dos municípios.
- B) dos estados da Federação.
- C) do Distrito Federal.
- D) da Associação Médica Brasileira.

QUESTÃO 22

Analise as seguintes afirmativas sobre os processos relativos a infrações ético-profissionais no âmbito dos Conselhos Regionais e Federal de Medicina.

- I. A competência para apreciar e julgar as infrações é do Conselho Regional de Medicina, que detém a inscrição do médico ao tempo da ocorrência do ato punível.
- II. A sindicância só será instalada mediante denúncia, não se admitindo a instauração de ofício.
- III. Os recursos contra a aplicação de penalidades só terão efeito suspensivo, salvo no caso de cassação do registro profissional.

Segundo o que dispõe o *Código de Processo Ético-Profissional*, está(ão) **correta(s)** a(s) afirmativa(s):

- A) I, apenas.
- B) I e II, apenas.
- C) III, apenas.
- D) I, II e III.

QUESTÃO 23

A responsabilidade pelas informações prestadas aos Conselhos Federal e Regionais de Medicina por empresas, instituições, entidades ou estabelecimentos prestadores e / ou intermediadores de assistência à saúde é do seu:

- A) diretor-presidente.
- B) diretor jurídico.
- C) diretor-médico.
- D) representante legal.

QUESTÃO 24

Compõem a Comissão Mista de Especialidade, que tem a competência de definir as especialidades médicas no país, **EXCETO**:

- A) Conselho Federal de Medicina – CFM.
- B) Associação Médica Brasileira – AMB.
- C) Comissão Nacional de Residência Médica – CNRM.
- D) Associação Brasileira de Educação Médica- ABEM.

QUESTÃO 25

Segundo o *Código de Processo Ético-Profissional de Medicina*, no âmbito dos Conselhos Federal e Regionais de Medicina, o relatório conclusivo de uma comissão de sindicância pode indicar diversos encaminhamentos, entre os quais **não** se inclui:

- A) o arquivamento da sindicância.
- B) a conciliação.
- C) a imediata comunicação do fato à autoridade competente do Ministério Público.
- D) a instauração de processo ético-profissional.

INFORMÁTICA

QUESTÃO 26

As fórmulas do MS Excel são essenciais e auxiliam na criação de planilhas eletrônicas.

Assinale a alternativa que apresenta a fórmula utilizada no MS Excel para somar todos os números em um intervalo de células.

- A) =PROCV()
- B) =DESC()
- C) =SOMA()
- D) =BD()

QUESTÃO 27

Quais são as teclas que, se pressionadas juntas no MS Word, acionarão as opções para recorte de um texto ou objeto selecionado no documento aberto?

- A) Ctrl+c
- B) Ctrl+v
- C) Ctrl+x
- D) Ctrl+Shift+e

QUESTÃO 28

Assinale a alternativa que apresenta **corretamente** o formato do Excel que é usado para exibir o valor em quantias monetárias em geral.

- A) Moeda
- B) Data
- C) Número
- D) Fração

QUESTÃO 29

Analise a planilha a seguir gerada pelo Excel.

	A	B	
1	2	4	
2	1	9	
3	3	8	
4	2	5	
5			

Qual o resultado da célula C1=SOMASE(A1:A4;2;B1:B4)?

- A) 9
- B) 8
- C) 3
- D) 4

QUESTÃO 30

Assinale a alternativa que apresenta **corretamente** um programa que habilita seus usuários a navegar na internet interagindo com documentos HTML, hospedados em um servidor web.

- A) Bloco de notas
- B) Adobe Reader
- C) Power Point
- D) Google Chrome

CONHECIMENTOS ESPECÍFICOS

AGENTE ADMINISTRATIVO

QUESTÃO 31

As cartas comerciais são de grande utilidade e possuem intenso fluxo nas rotinas empresariais.

Com relação às cartas comerciais, analise as afirmativas a seguir e assinale com **V** as **verdadeiras** e com **F** as **falsas**.

- () Carta de advertência ou simplesmente advertência – De uso interno e busca chamar a atenção ou advertir as pessoas quanto a comportamentos ou ocorrências indesejadas na empresa.
- () Carta cobrança – Meio textual que tem por objetivo solicitar um pagamento ou regularização de débito e pode ser feita por envio automático, por e-mail, pelos correios e outros meios.
- () Resposta a consulta – Destaca informações que podem ser referentes a cadastro pessoal, registro profissional, imóveis, informações de estabelecimentos e outras por solicitação e interesse de um solicitante.
- () Carta serial – Identificada por código de barras, sobre a qual os destinatários e remetentes já têm conhecimento do assunto; normalmente traz apenas número, localizadores ou codificadores alfanuméricos.

Assinale a sequência **CORRETA**.

- A) F F V V
- B) V F V V
- C) V V V F
- D) V V V V

QUESTÃO 32

Analise a situação hipotética a seguir.

Luiz Antônio está iniciando seus trabalhos de rotina de escritório na sua empresa. Aparentemente simples, os protocolos ou procedimentos para a prática das correspondências utilizando a Empresa Brasileira de Correios e Telégrafos (ECT) exigem alguns cuidados, pois:

- I. todo tipo de objeto pode ser expedido por via postal, inclusive substâncias deterioráveis, corrosivas, material contaminante e outros, desde que devidamente identificados.
- II. a correspondência deve ser fechada com cola e a ECT não irá aceitar correspondência grampeada, lacrada com fita adesiva ou semelhante ou com fecho sujo ou com excesso de cola.
- III. certos impressos, como folhetos promocionais, podem ter tarifas reduzidas. Para isso, os envelopes devem estar abertos e ter na frente a palavra “impresso” carimbada ou anotada. A ECT verificará se o conteúdo se enquadra nas normas prescritas para esse tipo de serviço.

Está(ão) **correta(s)** a(s) afirmativa(s):

- A) I, II e III.
- B) II e III, apenas.
- C) II, apenas.
- D) I, apenas.

QUESTÃO 33

O formulário é um eficiente meio de comunicação, registro e transmissão de informações. Muitos fatores e necessidades justificam a utilização de formulários nas empresas.

Com relação a esses fatores e necessidades, assinale a alternativa **INCORRETA**.

- A) Para a função controle, que é uma realidade nos processos administrativos de diversas áreas como qualidade, atendimento, produção e outras, quanto maior o número de formulários, mais eficiente será o controle.
- B) Para segurança e capacitação na empresa, a consolidação de um conjunto de dados e informações em formulários possibilita ao funcionário tomar uma decisão mais estruturada ou orientada.
- C) Um fator crucial é a importância das informações registradas, pois o sucesso de uma empresa pode depender de ter o dado ou informação certa, na hora certa.
- D) A necessidade da padronização nas comunicações, que é um fator fundamental no esquema de eficiência da comunicação nas empresas.

QUESTÃO 34

Analise os termos a seguir, em relação a correspondências e documentos, e correlacione a COLUNA I com a COLUNA II.

COLUNA I

- 1. Correspondência interna
- 2. Correspondência externa
- 3. Documentação jurídica
- 4. Documentação contábil

COLUNA II

- () Cartas de pessoas e empresas
- () Orçamentos, notas fiscais, folhas de pagamento, duplicatas, faturas.
- () Comunicados, memorandos, instruções, comunicações de rotina.
- () Contratos, pendências, escrituras, legislação, atas.

Assinale a sequência **CORRETA**.

- A) 1 2 3 4
- B) 3 1 2 4
- C) 2 4 1 3
- D) 4 1 3 2

QUESTÃO 35

Alguns problemas podem levar a comunicação nas empresas a uma perda de efetividade e comprometer a qualidade e os resultados organizacionais.

Assinale a alternativa que não apresenta corretamente um desses problemas.

- A) O receio do efeito que a mensagem pode provocar.
- B) Percepção de que um problema é de outra pessoa.
- C) Sobrecarga. O emissor cria uma quantidade exagerada de informações, como relatórios muito longos que abordam um alto número de diferentes questões.
- D) Complexidade. Produz efeito diverso do esperado no processo de comunicação, porque o emissor enviou a mensagem diferente do que pretendia ou deveria.

QUESTÃO 36

Quando o processo de organização nas empresas é abordado, envolvem-se conceitos, áreas, funções e tarefas.

Nesse contexto, assinale a alternativa **INCORRETA**.

- A) Divisão do trabalho é o processo por meio do qual uma tarefa é dividida em partes e cada uma delas é atribuída a uma pessoa ou grupo de pessoas.
- B) A autoridade divide-se verticalmente em níveis. Pessoas que estão em determinado nível normalmente têm autoridade sobre as que estão em nível inferior.
- C) A estrutura organizacional é uma estrutura estável e dinâmica. Ela define o trabalho, a especialização e a hierarquia das pessoas na empresa.
- D) Os recursos (humanos e materiais) determinam a denominação que se dá às unidades de uma empresa, seus departamentos.

QUESTÃO 37

Sobre o direito fundamental de associação, tal como previsto na Constituição brasileira, é **correto** afirmar:

- A) As associações só poderão ser dissolvidas e ter suas atividades suspensas após o devido processo legal no âmbito de processo judicial ou administrativo.
- B) A obrigatoriedade da associação de determinadas categorias profissionais depende de previsão legal.
- C) A criação de associações e, na forma da lei, a de cooperativa independem de autorização, vedada a interferência estatal em seu funcionamento.
- D) As entidades associativas não têm legitimidade para representar seus filiados judicialmente, podendo fazê-lo extrajudicialmente, desde que autorizadas.

QUESTÃO 38

Trata-se de elemento ou atributo presente apenas nos atos administrativos discricionários:

- A) o objeto.
- B) a presunção de legitimidade.
- C) o mérito.
- D) a motivação.

QUESTÃO 39

Considere os seguintes atos e condutas relativas à atividade estatal:

- I. Avocação de uma competência do subordinado pelo superior hierárquico.
- II. Distribuição interna de competências no interior de uma pessoa jurídica.
- III. Distribuição de competências de uma pessoa jurídica para outra pessoa física ou jurídica.

Ocorre a denominada descentralização administrativa no(s) ato(s) ou conduta(s) descrita(s) no(s) item(ns):

- A) I, apenas.
- B) II e III, apenas.
- C) III, apenas.
- D) I, II e III.

QUESTÃO 40

Compete ao administrador público buscar exercer sua atividade pautando-se não apenas pela distinção entre o legal e o ilegal, o conveniente e o inconveniente, mas também entre o honesto e o desonesto.

A afirmativa põe em evidência o seguinte princípio aplicável à Administração Pública:

- A) Da impessoalidade.
- B) Da eficiência.
- C) Da publicidade.
- D) Da moralidade.

INSTRUÇÕES GERAIS

1. A Prova de Redação deverá conter **no mínimo 18** (dezoito) e **no máximo 30** (trinta) linhas.
2. O que for escrito além do espaço destinado ao candidato para a redação (30 linhas) não será corrigido, sendo o candidato penalizado pelos problemas de compreensão de seu texto (PO, M, CC e / ou CP).
3. Somente serão corrigidas as provas redigidas com caneta esferográfica de tinta azul ou preta, não sendo permitido uso de lápis ou corretivo de texto.
4. O candidato somente poderá apor seu número de inscrição, nome ou assinatura em lugar especificamente indicado para tal finalidade, sob pena de anulação da prova de redação e consequente eliminação do concurso, caso proceda de forma contrária.
5. Não serão fornecidas folhas adicionais para complementação da redação, devendo o candidato limitar-se a uma única folha padrão recebida.

CRITÉRIOS DE AVALIAÇÃO DA PROVA DE REDAÇÃO		
ASPECTOS AVALIADOS	TOTAL DE PONTOS	PONTOS DESCONTADOS POR ERRO
Pontuação, acentuação e ortografia (PO).	5,0 pontos	0,25
Morfossintaxe (emprego dos pronomes, concordância verbal e nominal, oração e período, vozes do verbo) (M).	5,0 pontos	0,25
Coesão e coerência (CC).	5,0 pontos	1,0
Compreensão / conhecimento do conteúdo proposto e propriedade da resposta à temática (CP).	5,0 pontos	1,0
TOTAL	20 pontos	

TEXTO I

Gastos em saúde e o PIB em 35 países

A tabela a seguir estruturada mostra os dados disponibilizados em 2015 pela OCDE [Organização para a Cooperação e o Desenvolvimento Econômico] sobre Gastos Nacionais em Saúde – dispêndios totais como percentual do Produto Interno Bruto (PIB), dispêndios do setor público como % do PIB e gastos totais *per capita* – para os 34 países que compõem a OCDE, além do Brasil.

[...]

Os dados econômicos aqui listados são os consolidados para o ano de 2012. A coluna de população por país, no entanto, fornece o dado mais atual, ou seja, de fevereiro de 2016. [...]

POPULAÇÃO E GASTOS EM SAÚDE EM 35 PAÍSES				
PAÍS	POPULAÇÃO (em milhões) 2016	GASTOS EM SAÚDE em % do PIB (2012)		
		Total	Público	<i>Per capita</i> (em US\$)
Alemanha	79,7	11,0	8,3	4.819
Austrália	23,8	8,8	5,9	3.866
Áustria	8,4	10,1	7,7	4.553
Bélgica	11,2	10,1	8,0	4.256
Canadá	35,9	10,2	7,2	4.351
Chile	18,1	7,3	3,4	1.606
Coreia	50,5	6,9	3,8	2.275
Dinamarca	5,6	10,4	8,8	4.553
Eslováquia	5,4	7,6	5,6	2.010
Eslovênia	2,0	8,7	6,2	2.511
Espanha	47,9	8,8	6,7	2.898
Estados Unidos	326,8	16,4	7,9	8.414
Estônia	1,3	6,2	4,8	1.542
Finlândia	5,4	8,6	6,5	3.442
França	67,0	10,9	8,6	4.124
Grécia	11,1	9,2	6,0	2.366
Holanda	17,0	11,1	9,7	5.131
Hungria	9,8	7,4	4,4	2.428
Irlanda	4,8	8,1	5,5	3.663
Islândia	0,3	8,7	7,1	3.677
Israel	8,4	7,5	4,4	2.428
Itália	60,6	8,8	6,8	3.077
Japão	126,1	10,2	8,5	3.173
Luxemburgo	0,6	6,6	5,5	4.371
México	126,4	6,2	3,2	1.048
Noruega	5,1	8,9	7,6	5.862
Nova Zelândia	4,6	9,5	7,6	3.328
Polónia	38,4	6,4	4,5	1.530
Portugal	10,6	9,1	6,1	2.514
Reino Unido	65,1	8,5	7,0	3.235
Rep. Checa	10,5	7,1	6,0	2.040
Suécia	9,6	11,0	9,2	4.904
Suíça	8,1	11,1	7,3	6.235
Turquia	77,8	5,1	4,0	941
OCDE*	1.283,4	8,9	6,5	3.453
BRASIL**	208,1	8,0	3,6	970

*: Dados da OCDE – População total. Gastos em saúde = média

** : Dados do Brasil sobre gastos em saúde são de 2.013

Disponível em: <<http://mundoseculoxxi.com.br/?p=2742>>. Acesso em: 19 abr. 2017 (Adaptação).

TEXTO II

PEC 01/2015

Aumentará o limite dos gastos do governo federal com a Saúde, obrigando o governo a investir 10% da receita corrente bruta (Saúde+10).

Esta PEC determinará que a União deverá investir, pelo menos, 19,4% de sua receita corrente líquida em ações e serviços públicos de saúde ao final de seis anos, o que equivale a 10% da receita corrente bruta.

Pela lei atual, a União deve investir na Saúde 13,2% da receita corrente líquida para 2016, subindo até 15% em 2020.

Esta PEC tem origem no projeto de lei de iniciativa popular (PLP 321/13) conhecido como Saúde+10.

Segundo o deputado [propositor do Projeto – Vanderlei Macris], o Governo Federal tem diminuído a cada ano a sua participação relativa no financiamento do Sistema Único de Saúde. No ano de 2000, a União respondia por 59% dos recursos em saúde pública. Em 2013, os estados e municípios passaram a ser responsáveis por bancar 56% do custeio do SUS, enquanto a participação da União caiu para 44%.

Disponível em: <<https://goo.gl/mfUyr4>>. Acesso em: 27 mar. 2017 (Adaptação).

PROPOSTA DE REDAÇÃO

Com base na leitura dos textos motivadores e nos conhecimentos construídos ao longo de sua formação, **REDIJA** um texto dissertativo-argumentativo em norma padrão da língua portuguesa, **posicionando-se a favor ou contra a PEC 01/2015**.

Para tanto, apresente sua opinião respeitando os Direitos Humanos. Selecione, organize e relacione, de forma coerente e coesa, argumentos e fatos para a defesa de seu ponto de vista. A transcrição parcial ou total do texto não será considerada para efeito de correção e contabilização do número de linhas.

RASCUNHO DA REDAÇÃO

1	
2	
3	
4	
5	
6	
7	
8	
9	
10	
11	
12	
13	
14	
15	
16	
17	
18	
19	
20	
21	
22	
23	
24	
25	
26	
27	
28	
29	
30	

FOLHA DE RESPOSTAS (RASCUNHO)

01	A	B	C	D				
	A	B	C	D				
02	A	B	C	D				
	A	B	C	D				
03	A	B	C	D				
	A	B	C	D				
04	A	B	C	D				
	A	B	C	D				
05	A	B	C	D				
	A	B	C	D				
06	A	B	C	D				
	A	B	C	D				
07	A	B	C	D				
	A	B	C	D				
08	A	B	C	D				
	A	B	C	D				
09	A	B	C	D				
	A	B	C	D				
10	A	B	C	D				
	A	B	C	D				
11	A	B	C	D				
	A	B	C	D				
12	A	B	C	D				
	A	B	C	D				
13	A	B	C	D				
	A	B	C	D				
14	A	B	C	D				
	A	B	C	D				
15	A	B	C	D				
	A	B	C	D				
16	A	B	C	D				
	A	B	C	D				
17	A	B	C	D				
	A	B	C	D				
18	A	B	C	D				
	A	B	C	D				
19	A	B	C	D				
	A	B	C	D				
20	A	B	C	D				
	A	B	C	D				
21	A	B	C	D				
	A	B	C	D				
22	A	B	C	D				
	A	B	C	D				
23	A	B	C	D				
	A	B	C	D				
24	A	B	C	D				
	A	B	C	D				
25	A	B	C	D				
	A	B	C	D				
26	A	B	C	D				
	A	B	C	D				
27	A	B	C	D				
	A	B	C	D				
28	A	B	C	D				
	A	B	C	D				
29	A	B	C	D				
	A	B	C	D				
30	A	B	C	D				
	A	B	C	D				
31	A	B	C	D				
	A	B	C	D				
32	A	B	C	D				
	A	B	C	D				
33	A	B	C	D				
	A	B	C	D				
34	A	B	C	D				
	A	B	C	D				
35	A	B	C	D				
	A	B	C	D				
36	A	B	C	D				
	A	B	C	D				
37	A	B	C	D				
	A	B	C	D				
38	A	B	C	D				
	A	B	C	D				
39	A	B	C	D				
	A	B	C	D				
40	A	B	C	D				

AO TRANSFERIR ESSAS MARCAÇÕES PARA A FOLHA DE RESPOSTAS,
OBSERVE AS INSTRUÇÕES ESPECÍFICAS DADAS NA CAPA DA PROVA.

USE CANETA ESFEROGRÁFICA AZUL OU PRETA.

**ATENÇÃO:
AGUARDE AUTORIZAÇÃO
PARA VIRAR O CADERNO DE PROVA.**

AGENTE DE FISCALIZAÇÃO

Código: 102

LEIA COM ATENÇÃO AS SEGUINTE INSTRUÇÕES

1. Este caderno contém as questões da **Prova Objetiva** e a **Redação**.
2. Use o rascunho da Folha de Respostas da Prova Objetiva reproduzido ao final deste caderno apenas para marcar o Gabarito.
3. Ao receber a **Folha de Respostas** da **Prova Objetiva** e o **Caderno de Redações**:
 - Confira seu nome, número de inscrição e o cargo.
 - Assine, **A TINTA**, no espaço próprio indicado.

4. **ATENÇÃO**: transcreva no espaço apropriado da sua **FOLHA DE RESPOSTAS**, com sua caligrafia usual, mantendo as letras maiúsculas e minúsculas, desconsiderando aspas e autoria, a seguinte frase:

“A imaginação é mais importante que o conhecimento.” Albert Einstein

ATENÇÃO:

FOLHAS DE RESPOSTAS SEM ASSINATURA NÃO TÊM VALIDADE.

5. Ao transferir as respostas para a **Folha de Respostas**:

01 • use apenas caneta esferográfica azul ou preta;

02 • preencha, sem forçar o papel, toda a área reservada à letra correspondente à resposta solicitada em cada questão;

03 • assinale somente **uma** alternativa em cada questão.

04 Sua resposta **NÃO** será computada se houver marcação de mais de uma alternativa, questões não assinaladas ou rasuras.

NÃO DEIXE NENHUMA QUESTÃO SEM RESPOSTA.

As **Folhas de Respostas** não devem ser dobradas, amassadas ou rasuradas.

ATENÇÃO: Será vedado ao candidato o porte de arma(s) no local de realização das provas, ainda que de posse de documento oficial de licença para o respectivo porte. As instruções constantes no Caderno de Provas e na Folha de Respostas da Prova Objetiva Múltipla Escolha, bem como as orientações e instruções expedidas pela FUNDEP durante a realização das provas, complementam o Edital e deverão ser rigorosamente observadas e seguidas pelo candidato. O candidato somente poderá se retirar do recinto de aplicação de prova após decorridas 2 horas de seu início. Durante a realização da Prova Objetiva, não será permitida a comunicação entre os candidatos, bem como consulta de qualquer natureza a livros, revistas, folhetos ou anotações e nem o uso de aparelhos eletrônicos ou eletromecânicos; como também o uso de boné, boina, chapéu, gorro, lenço ou qualquer outro acessório que impeça a visão total das orelhas do candidato; não será permitido, também, o uso de óculos escuros, sendo eliminado o candidato que descumprir essas determinações. Ao terminar a Prova Objetiva, o candidato entregará ao fiscal o Caderno de Provas, a Folha de Respostas da Prova Objetiva e o Caderno de Prova de Redação, devidamente assinados nos locais apropriados. Ao término do prazo estabelecido para a prova, os três últimos candidatos deverão permanecer na sala até que o último candidato termine sua prova, devendo todos assinar a Ata de Sala, atestando a idoneidade da fiscalização das provas, retirando-se da sala de prova de uma só vez.

O caderno de questões e o gabarito da Prova Objetiva serão divulgados no endereço eletrônico www.gestaodeconcursos.com.br no dia 29 de maio de 2017.

DURAÇÃO MÁXIMA DA PROVA: 4 (QUATRO) HORAS

ATENÇÃO

Sr.(a) Candidato(a),

Antes de começar a fazer a prova, confira se este caderno contém, ao todo, **40 (quarenta) questões de múltipla escolha**, cada uma constituída de 4 (quatro) alternativas de respostas, assim distribuídas: 15 (quinze) questões de **Língua Portuguesa**, 5 (cinco) questões de **Matemática**, 5 (cinco) questões de **Legislação**, 5 (cinco) questões de **Informática**, 10 (dez) questões de **Conhecimentos Específicos** e o tema de **Redação**, todas perfeitamente legíveis.

Havendo algum problema, informe **imediatamente** ao aplicador de provas para que ele tome as providências necessárias.

Caso não observe essa recomendação, não lhe caberá qualquer reclamação ou recursos posteriores.

INSTRUÇÃO: Leia o texto, a seguir, para responder às questões de 1 a 15.

Risco pediátrico

O Tribunal de Contas da União (TCU) pediu acesso ao resultado de centenas de fiscalizações realizadas pelos Conselhos Regionais de Medicina (CRMs) ao longo de 2015. Em meio ao calhamaço de informações, um ponto se destaca: o descaso para com a infraestrutura da rede pública de atenção primária.

É justamente nas 41 mil unidades básicas de saúde (UBS) espalhadas pelo país que os pacientes deveriam ter acesso às ações de promoção da saúde, de prevenção de doenças e de cuidados.

Plenamente eficientes, ajudariam a reduzir a incidência de doenças e a controlar os problemas crônicos, com menos sequelas e mortes, esvaziando hospitais e, o que mais gostam de ouvir os gestores, diminuindo custos. Contudo, os dados mostram uma rede à margem de suas possibilidades. [...]

Das 1.266 UBS vistoriadas pelos CRMs em 2015, um total de 739 (58%) apresentava mais de 30 itens em desconformidade com o estabelecido pelas normas legais em vigor. Sob a responsabilidade dos atuais gestores, deixaram de cumprir exigências criadas pelo próprio Ministério da Saúde.

O descaso transparece em contextos incompatíveis com a dignidade humana e a responsabilidade técnica. Em 41% das unidades, não havia um negatoscópio (aparelho para avaliar uma radiografia) e a falta de estetoscópio foi registrada em 23% das fiscalizações.

A precariedade das instalações em locais onde a limpeza é fundamental também foi percebida. Em 3% das UBS visitadas não havia sanitários para os funcionários; em 8% faltavam pias ou lavabos; sabonete líquido e papel toalha eram itens faltantes em 16% das unidades.

A pediatria é uma das especialidades que mais sofrem com essa situação, que beira o surreal. No Brasil, há 35 mil especialistas na área. Pouco mais de 70% deles atuam na rede pública, principalmente nessa rede que carece de quase tudo. Mesmo assim, num contexto completamente adverso, eles têm se desdobrado para oferecer às crianças e adolescentes o mínimo do que precisam.

Por isso, cuidam da saúde de 50 milhões de brasileiros, com idades de 0 a 18 anos, que dependem exclusivamente do Sistema Único de Saúde (SUS) para ter acesso a consultas médicas, exames, internações e cirurgias. No entanto, no cenário atual, profissionais e pacientes enfrentam situações-limite, que causam desespero nas famílias e impõem dilemas éticos aos médicos, cerceados por fatores que fogem ao seu controle.

Em nome da saúde e do bem-estar dos jovens brasileiros, essa realidade deve ser transformada com urgência. Nesse contexto, a assistência pediátrica de qualidade tem de ser vista como prioridade, pois se ocupa fundamentalmente daqueles que, mais que todos, precisam de uma sociedade que respeite a cidadania.

SILVA, Luciana Rodrigues; FERREIRA, Sidnei. Risco pediátrico. *CFM*. Disponível em: <<http://migre.me/wf9Wn>>. Acesso em: 15 mar. 2017 (Fragmento adaptado).

QUESTÃO 1

Assinale o trecho que **melhor** justifica o título do texto.

- A) “A precariedade das instalações em locais onde a limpeza é fundamental também foi percebida.”
- B) “A falta de instalações adequadas, de equipamentos e insumos não permite que as equipes cumpram suas missões.”
- C) “Pouco mais de 70% deles atuam na rede pública, principalmente nessa rede que carece de quase tudo.”
- D) “Em meio ao calhamaço de informações, um ponto se destaca: o descaso para com a infraestrutura da rede pública de atenção primária.”

QUESTÃO 2

São motivos que, de acordo com o texto, indicam precariedade na infraestrutura da rede pública de atenção primária, **EXCETO**:

- A) Falta de equipamentos médicos.
- B) Falta de materiais de higiene.
- C) Falta de infraestrutura.
- D) Falta de profissionais capacitados.

QUESTÃO 3

São elementos utilizados pelos autores no decorrer do texto, **EXCETO**:

- A) Ironia.
- B) Dados estatísticos.
- C) Argumentação lógica, por causa e consequência.
- D) Apelo sentimental.

QUESTÃO 4

Releia o trecho a seguir.

“No entanto, no cenário atual, profissionais e pacientes enfrentam situações-limite, que causam desespero nas famílias e impõem dilemas éticos aos médicos, **cerceados** por fatores que fogem ao seu controle.”

O verbo “cercear”, destacado nesse trecho, pode ser substituído por:

- A) abolir
- B) limitar.
- C) suprimir.
- D) cortar.

QUESTÃO 5

Releia o trecho a seguir.

“Plenamente eficientes, ajudariam a reduzir a incidência de doenças e a controlar os problemas crônicos, com menos sequelas e mortes, esvaziando hospitais e, o que mais gostam de ouvir os gestores, diminuindo custos. **Contudo**, os dados mostram uma rede à margem de suas possibilidades.”

Assinale a alternativa em que a reescrita do trecho mantém o sentido original desse trecho.

- A) Plenamente eficientes, ajudariam a reduzir a incidência de doenças e a controlar os problemas crônicos, com menos sequelas e mortes, esvaziando hospitais e, o que mais gostam de ouvir os gestores, diminuindo custos. **Portanto**, os dados mostram uma rede à margem de suas possibilidades.
- B) Plenamente eficientes, ajudariam a reduzir a incidência de doenças e a controlar os problemas crônicos, com menos sequelas e mortes, esvaziando hospitais e, o que mais gostam de ouvir os gestores, diminuindo custos. **Todavia**, os dados mostram uma rede à margem de suas possibilidades.
- C) Plenamente eficientes, ajudariam a reduzir a incidência de doenças e a controlar os problemas crônicos, com menos sequelas e mortes, esvaziando hospitais e, o que mais gostam de ouvir os gestores, diminuindo custos. **Consequentemente**, os dados mostram uma rede à margem de suas possibilidades.
- D) Plenamente eficientes, ajudariam a reduzir a incidência de doenças e a controlar os problemas crônicos, com menos sequelas e mortes, esvaziando hospitais e, o que mais gostam de ouvir os gestores, diminuindo custos. **Conforme**, os dados mostram uma rede à margem de suas possibilidades.

QUESTÃO 6

Assinale a alternativa cuja ideia entre colchetes **não** está presente no respectivo trecho.

- A) “Das 1.266 UBS vistoriadas pelos CMRs em 2015, um total de 739 (58%) apresentava mais de 30 itens em desconformidade com o estabelecido pelas normas legais em vigor.” [MAIORIA]
- B) “Em meio ao calhamaço de informações, um ponto se destaca: o descaso para com a infraestrutura da rede pública de atenção primária.” [EXCLUSIVIDADE]
- C) “[...] essa realidade deve ser transformada com urgência.” [PREMÊNCIA]
- D) “Pouco mais de 70% deles atuam na rede pública, principalmente nessa rede que carece de quase tudo.” [MAIORIA]

QUESTÃO 7

Releia o trecho a seguir.

“A precariedade das instalações em locais **onde** a limpeza é fundamental também foi percebida.”

Em relação à palavra destacada, de acordo com a norma padrão da língua portuguesa, assinale alternativa **CORRETA**.

- A) É usada com verbos que indicam movimento.
- B) Pode ser substituída por “aonde”.
- C) Foi utilizado corretamente, assim como em “Existem lances onde os juizes erram”.
- D) Pode ser substituída pela locução “em que”.

QUESTÃO 8

Releia o trecho a seguir.

“[...] os dados mostram uma rede **à margem de** suas possibilidades.”

De acordo com o que pode ser interpretado do texto, a locução destacada indica que a rede:

- A) necessita de melhor infraestrutura.
- B) é superdimensionada.
- C) poderia ser melhor aproveitada.
- D) atende um método de pacientes superior ao que é capaz.

QUESTÃO 9

Releia o trecho a seguir.

“Em 41% das unidades, não havia um negatoscópio (aparelho para avaliar uma radiografia) [...]”

De acordo com a norma padrão da língua portuguesa e com o contexto em que aparecem, assinale a alternativa **incorreta** sobre o uso dos parênteses.

- A) Podem ser substituídos por travessões.
- B) Servem para inserir uma nova informação no texto.
- C) Podem ser substituídos por vírgulas.
- D) Servem para demarcar uma oração fora do contexto textual.

QUESTÃO 10

Releia o trecho a seguir.

“[...] eles têm se desdobrado para oferecer às crianças e adolescentes o mínimo do que precisam.”

Analise as afirmativas a seguir a respeito do acento indicativo de crase desse trecho.

- I. É regido pelo verbo “oferecer”.
- II. Indica a fusão de um artigo com uma preposição.
- III. É facultativo.

De acordo com a norma padrão da língua portuguesa, estão **corretas** as afirmativas:

- A) I e II, apenas.
- B) I e III, apenas.
- C) II e III, apenas.
- D) I, II e III.

QUESTÃO 11

Releia o trecho a seguir.

“Nesse contexto, a assistência pediátrica de qualidade tem de ser vista como prioridade, **pois** se ocupa fundamentalmente daqueles que, mais que todos, precisam de uma sociedade que respeite a cidadania.”

A conjunção destacada confere a esse trecho uma ideia de:

- A) explicação.
- B) conclusão.
- C) condição.
- D) tempo.

QUESTÃO 12

Releia o trecho a seguir.

“Em 41% das unidades, não havia um negatoscópio (aparelho para avaliar uma radiografia) e a falta de estetoscópio foi registrada em 23% das fiscalizações.”

O substantivo “negatoscópio” é formado por “negato” (de negativo) e o elemento “-scópio”, assim como “estetoscópio” é formado por “esteto-” (peito) e o mesmo elemento “-scópio”. De forma semelhante existem diversas outras palavras com esse tipo de formação, como microscópio, caleidoscópio, telescópio e outras.

A esse respeito, assinale a alternativa que apresenta o significado do elemento “-scópio”.

- A) Instrumento para observar.
- B) Dispositivo para isolar.
- C) Instrumento para auscultar.
- D) Dispositivo para cortar.

QUESTÃO 13

O texto apresentado é, predominantemente, um(a):

- A) notícia, porque o texto se limita a expor os fatos, sem emitir opiniões.
- B) artigo de opinião, pois é possível verificar, pela leitura do texto, um determinado ponto de vista.
- C) artigo científico, pois vale-se de dados científicos para embasar o texto.
- D) resenha, uma vez que analisa e expõe os dados de uma pesquisa realizada.

QUESTÃO 14

Releia o trecho a seguir.

“Por isso, **cuidam** da saúde de 50 milhões de brasileiros, com idades de 0 a 18 anos, que **dependem** exclusivamente do Sistema Único de Saúde (SUS) para ter acesso a consultas médicas, exames, internações e cirurgias. No entanto, no cenário atual, profissionais e pacientes **enfrentam** situações-limite, que **causam** desespero nas famílias e **impõem** dilemas éticos aos médicos, cerceados por fatores que fogem ao seu controle.”

Em relação aos verbos destacados, analise as afirmativas a seguir.

- I. Estão flexionados no mesmo tempo verbal.
- II. Estão flexionados na mesma pessoa do discurso.
- III. Estão flexionados no mesmo modo.

De acordo com a norma padrão da língua portuguesa, estão **corretas** as afirmativas:

- A) I e II, apenas.
- B) I e III, apenas.
- C) II e III, apenas.
- D) I, II e III.

QUESTÃO 15

Releia o trecho a seguir.

“O descaso transparece em contextos **incompatíveis** com a dignidade **humana** e a responsabilidade **técnica**. Em 41% das unidades, não havia um negatoscópio (aparelho para avaliar uma radiografia) e a falta de estetoscópio foi registrada em 23% das **fiscalizações**.”

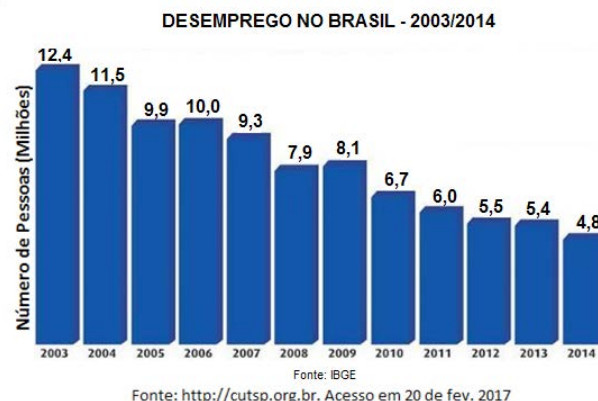
Assinale a alternativa em que a palavra destacada **não** qualifica outra nesse trecho.

- A) Incompatíveis
- B) Humana
- C) Técnica
- D) Fiscalizações

MATEMÁTICA

QUESTÃO 16

Observe o gráfico que mostra o número de desempregados no Brasil no período de 2003 a 2014.



A partir dos dados apresentados no gráfico, é **possível** afirmar que:

- A) houve uma diminuição do número de desempregados de 2008 para 2009.
- B) o ano em que houve o maior número de desempregados foi 2014.
- C) houve um aumento do número de desempregados de 2012 para 2013.
- D) o número de desempregados aumentou de 2005 para 2006.

QUESTÃO 17

Observe a tabela que mostra as contas que Mariana paga mensalmente utilizando o débito automático em sua conta bancária.

Conta	Valor	Data do débito automático
Água	R\$ 124,15	Todo dia 10 de cada mês
Energia elétrica	R\$ 185,10	
Telefone	R\$ 132,52	

No dia 8 de fevereiro de 2017, ela foi ao banco e verificou que o saldo de sua conta corrente estava negativo em R\$ 358,00.

Quanto Mariana teve que depositar para que no dia 12 de fevereiro tivesse um saldo positivo de R\$ 150,00?

- A) R\$ 441,77
- B) R\$ 799,77
- C) R\$ 817,77
- D) R\$ 949,77

QUESTÃO 18

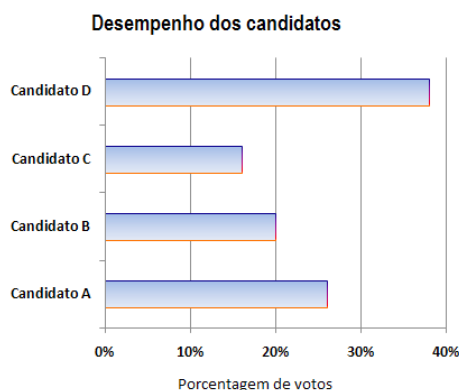
João participou da última edição da Volta Internacional da Pampulha, uma das grandes provas do calendário brasileiro, realizada no primeiro domingo de dezembro em Belo Horizonte. O percurso total dessa prova é de 17,8 km. João conseguiu percorrer 9,75 km da prova.

Quantos quilômetros faltaram para ele concluir o percurso?

- A) 28,55 km
- B) 17,80 km
- C) 9,75 km
- D) 8,05 km

QUESTÃO 19

Observe o gráfico que mostra o desempenho de quatro candidatos na eleição para presidente do Sindicato dos Servidores de Saúde da cidade de Pontal.



A sequência de candidatos que representa a classificação final dessa eleição em ordem decrescente é:

- A) C; B; A; D.
- B) D; B; A; C.
- C) D; A; B; C.
- D) C; D; A; B.

QUESTÃO 20

Veja, a seguir, a oferta da loja Magazine Bom Preço:

Aproveite a Promoção!

Forno Micro-ondas

De R\$ 720,00

Por apenas R\$ 504,00

Nessa oferta, o desconto é de:

- A) 70%.
- B) 50%.
- C) 30%.
- D) 10%.

LEGISLAÇÃO

QUESTÃO 21

Entre os conselheiros do Conselho Federal de Medicina, **não** há representantes:

- A) dos municípios.
- B) dos estados da Federação.
- C) do Distrito Federal.
- D) da Associação Médica Brasileira.

QUESTÃO 22

Analise as seguintes afirmativas sobre os processos relativos a infrações ético-profissionais no âmbito dos Conselhos Regionais e Federal de Medicina.

- I. A competência para apreciar e julgar as infrações é do Conselho Regional de Medicina, que detém a inscrição do médico ao tempo da ocorrência do ato punível.
- II. A sindicância só será instalada mediante denúncia, não se admitindo a instauração de ofício.
- III. Os recursos contra a aplicação de penalidades só terão efeito suspensivo, salvo no caso de cassação do registro profissional.

Segundo o que dispõe o *Código de Processo Ético-Profissional*, está(ão) **correta(s)** a(s) afirmativa(s):

- A) I, apenas.
- B) I e II, apenas.
- C) III, apenas.
- D) I, II e III.

QUESTÃO 23

A responsabilidade pelas informações prestadas aos Conselhos Federal e Regionais de Medicina por empresas, instituições, entidades ou estabelecimentos prestadores e / ou intermediadores de assistência à saúde é do seu:

- A) diretor-presidente.
- B) diretor jurídico.
- C) diretor-médico.
- D) representante legal.

QUESTÃO 24

Compõem a Comissão Mista de Especialidade, que tem a competência de definir as especialidades médicas no país, **EXCETO**:

- A) Conselho Federal de Medicina – CFM.
- B) Associação Médica Brasileira – AMB.
- C) Comissão Nacional de Residência Médica – CNRM.
- D) Associação Brasileira de Educação Médica- ABEM.

QUESTÃO 25

Segundo o *Código de Processo Ético-Profissional de Medicina*, no âmbito dos Conselhos Federal e Regionais de Medicina, o relatório conclusivo de uma comissão de sindicância pode indicar diversos encaminhamentos, entre os quais **não** se inclui:

- A) o arquivamento da sindicância.
- B) a conciliação.
- C) a imediata comunicação do fato à autoridade competente do Ministério Público.
- D) a instauração de processo ético-profissional.

INFORMÁTICA

QUESTÃO 26

As fórmulas do MS Excel são essenciais e auxiliam na criação de planilhas eletrônicas.

Assinale a alternativa que apresenta a fórmula utilizada no MS Excel para somar todos os números em um intervalo de células.

- A) =PROCV()
- B) =DESC()
- C) =SOMA()
- D) =BD()

QUESTÃO 27

Quais são as teclas que, se pressionadas juntas no MS Word, acionarão as opções para recorte de um texto ou objeto selecionado no documento aberto?

- A) Ctrl+c
- B) Ctrl+v
- C) Ctrl+x
- D) Ctrl+Shift+e

QUESTÃO 28

Assinale a alternativa que apresenta **corretamente** o formato do Excel que é usado para exibir o valor em quantias monetárias em geral.

- A) Moeda
- B) Data
- C) Número
- D) Fração

QUESTÃO 29

Analise a planilha a seguir gerada pelo Excel.

	A	B	
1	2	4	
2	1	9	
3	3	8	
4	2	5	
5			

Qual o resultado da célula C1=SOMASE(A1:A4;2;B1:B4)?

- A) 9
- B) 8
- C) 3
- D) 4

QUESTÃO 30

Assinale a alternativa que apresenta **corretamente** um programa que habilita seus usuários a navegar na internet interagindo com documentos HTML, hospedados em um servidor web.

- A) Bloco de notas
- B) Adobe Reader
- C) Power Point
- D) Google Chrome

CONHECIMENTOS ESPECÍFICOS

AGENTE DE FISCALIZAÇÃO

QUESTÃO 31

Considere a hipótese a seguir.

Entende o Congresso Nacional que um determinado decreto do Presidente da República trata de matéria que só poderia estar prevista em lei, ocorrendo, pois, invasão da competência do Poder Legislativo.

Tendo em vista o controle parlamentar da Administração Pública, é **correto** afirmar que ao Congresso Nacional cabe:

- A) anular em decisão definitiva o decreto.
- B) sustar o decreto.
- C) revogar o decreto.
- D) tão apenas, recorrer ao Poder Judiciário para invalidar o decreto.

QUESTÃO 32

Assinale a alternativa que apresenta apenas atos administrativos discricionários.

- A) Anulação, aprovação e decreto
- B) Autorização, aprovação e revogação
- C) Homologação, revogação e anulação
- D) Despacho, homologação e demissão

QUESTÃO 33

Considere as afirmativas a seguir.

- I. O Poder Judiciário pode examinar os atos administrativos de qualquer natureza, inclusive os discricionários, sob o aspecto da legalidade e da moralidade.
- II. Atos normativos do Poder Executivo não se submetem ao controle judicial.
- III. O processo especial de execução é uma das peculiaridades ou prerrogativas garantidas à Administração Pública quando for parte em ação judicial.

Está(ão) **correta(s)** a(s) afirmativa(s):

- A) I, apenas.
- B) I e III, apenas.
- C) II, apenas.
- D) I, II e III.

QUESTÃO 34

Trata-se de cargo privativo de brasileiro nato:

- A) reitor de Universidade Federal.
- B) deputado federal.
- C) ministro do Supremo Tribunal Federal.
- D) senador.

QUESTÃO 35

Segundo o Art. 1º da Constituição, a República Federativa do Brasil é formada pela união indissolúvel dos estados e municípios e do Distrito Federal, constituindo-se em Estado democrático de direito que se baseia nos seguintes fundamentos:

- A) soberania, cidadania, dignidade da pessoa humana, valores sociais do trabalho e da livre iniciativa e pluralismo político.
- B) soberania, participação popular direta, dignidade da pessoa humana e liberdade associativa e partidária.
- C) cidadania, pluralismo político, fraternidade e transitoriedade do exercício do poder político.
- D) soberania, solidariedade e justiça, defesa da paz e autodeterminação dos povos.

QUESTÃO 36

Considere a situação hipotética a seguir.

Pedro sofre prejuízos em decorrência de atos praticados por servidor público federal agindo nesta condição.

Na hipótese, é **correto** afirmar:

- A) A União responderá pelos danos com base na responsabilidade subjetiva.
- B) Cabe ao servidor público indenizar Pedro, respondendo a União apenas subsidiariamente.
- C) Cabe à União o dever de indenizar Pedro e usar o direito de regresso em caso de culpa ou dolo do servidor.
- D) Não caberá indenização a Pedro na hipótese de o servidor não ter agido com culpa ou dolo.

QUESTÃO 37

Compete ao administrador público buscar exercer sua atividade pautando-se não apenas pela distinção entre o legal e o ilegal, o conveniente e o inconveniente, mas também entre o honesto e o desonesto.

A afirmativa põe em evidência o seguinte princípio aplicável à Administração Pública:

- A) Da impessoalidade.
- B) Da eficiência.
- C) Da publicidade.
- D) Da moralidade.

QUESTÃO 38

Sobre o direito fundamental de associação, tal como previsto na Constituição brasileira, é **correto** afirmar:

- A) As associações só poderão ser dissolvidas e ter suas atividades suspensas após o devido processo legal no âmbito de processo judicial ou administrativo.
- B) A obrigatoriedade da associação de determinadas categorias profissionais depende de previsão legal.
- C) A criação de associações e, na forma da lei, a de cooperativa independem de autorização, vedada a interferência estatal em seu funcionamento.
- D) As entidades associativas não têm legitimidade para representar seus filiados judicialmente, podendo fazê-lo extrajudicialmente, desde que autorizadas.

QUESTÃO 39

Trata-se de elemento ou atributo presente apenas nos atos administrativos discricionários:

- A) o objeto.
- B) a presunção de legitimidade.
- C) o mérito.
- D) a motivação.

QUESTÃO 40

Considere os seguintes atos e condutas relativas à atividade estatal:

- I. Avocação de uma competência do subordinado pelo superior hierárquico.
- II. Distribuição interna de competências no interior de uma pessoa jurídica.
- III. Distribuição de competências de uma pessoa jurídica para outra pessoa física ou jurídica.

Ocorre a denominada descentralização administrativa no(s) ato(s) ou conduta(s) descrita(s) no(s) item(ns):

- A) I, apenas.
- B) II e III, apenas.
- C) III, apenas.
- D) I, II e III.

INSTRUÇÕES GERAIS

1. A Prova de Redação deverá conter **no mínimo 18** (dezoito) e **no máximo 30** (trinta) linhas.
2. O que for escrito além do espaço destinado ao candidato para a redação (30 linhas) não será corrigido, sendo o candidato penalizado pelos problemas de compreensão de seu texto (PO, M, CC e / ou CP).
3. Somente serão corrigidas as provas redigidas com caneta esferográfica de tinta azul ou preta, não sendo permitido uso de lápis ou corretivo de texto.
4. O candidato somente poderá apor seu número de inscrição, nome ou assinatura em lugar especificamente indicado para tal finalidade, sob pena de anulação da prova de redação e consequente eliminação do concurso, caso proceda de forma contrária.
5. Não serão fornecidas folhas adicionais para complementação da redação, devendo o candidato limitar-se a uma única folha padrão recebida.

CRITÉRIOS DE AVALIAÇÃO DA PROVA DE REDAÇÃO		
ASPECTOS AVALIADOS	TOTAL DE PONTOS	PONTOS DESCONTADOS POR ERRO
Pontuação, acentuação e ortografia (PO).	5,0 pontos	0,25
Morfossintaxe (emprego dos pronomes, concordância verbal e nominal, oração e período, vozes do verbo) (M).	5,0 pontos	0,25
Coesão e coerência (CC).	5,0 pontos	1,0
Compreensão / conhecimento do conteúdo proposto e propriedade da resposta à temática (CP).	5,0 pontos	1,0
TOTAL	20 pontos	

TEXTO I

Gastos em saúde e o PIB em 35 países

A tabela a seguir estruturada mostra os dados disponibilizados em 2015 pela OCDE [Organização para a Cooperação e o Desenvolvimento Econômico] sobre Gastos Nacionais em Saúde – dispêndios totais como percentual do Produto Interno Bruto (PIB), dispêndios do setor público como % do PIB e gastos totais *per capita* – para os 34 países que compõem a OCDE, além do Brasil.

[...]

Os dados econômicos aqui listados são os consolidados para o ano de 2012. A coluna de população por país, no entanto, fornece o dado mais atual, ou seja, de fevereiro de 2016. [...]

POPULAÇÃO E GASTOS EM SAÚDE EM 35 PAÍSES				
PAÍS	POPULAÇÃO (em milhões) 2016	GASTOS EM SAÚDE em % do PIB (2012)		
		Total	Público	<i>Per capita</i> (em US\$)
Alemanha	79,7	11,0	8,3	4.819
Austrália	23,8	8,8	5,9	3.866
Áustria	8,4	10,1	7,7	4.553
Bélgica	11,2	10,1	8,0	4.256
Canadá	35,9	10,2	7,2	4.351
Chile	18,1	7,3	3,4	1.606
Coreia	50,5	6,9	3,8	2.275
Dinamarca	5,6	10,4	8,8	4.553
Eslováquia	5,4	7,6	5,6	2.010
Eslovênia	2,0	8,7	6,2	2.511
Espanha	47,9	8,8	6,7	2.898
Estados Unidos	326,8	16,4	7,9	8.414
Estônia	1,3	6,2	4,8	1.542
Finlândia	5,4	8,6	6,5	3.442
França	67,0	10,9	8,6	4.124
Grécia	11,1	9,2	6,0	2.366
Holanda	17,0	11,1	9,7	5.131
Hungria	9,8	7,4	4,4	2.428
Irlanda	4,8	8,1	5,5	3.663
Islândia	0,3	8,7	7,1	3.677
Israel	8,4	7,5	4,4	2.428
Itália	60,6	8,8	6,8	3.077
Japão	126,1	10,2	8,5	3.173
Luxemburgo	0,6	6,6	5,5	4.371
México	126,4	6,2	3,2	1.048
Noruega	5,1	8,9	7,6	5.862
Nova Zelândia	4,6	9,5	7,6	3.328
Polónia	38,4	6,4	4,5	1.530
Portugal	10,6	9,1	6,1	2.514
Reino Unido	65,1	8,5	7,0	3.235
Rep. Checa	10,5	7,1	6,0	2.040
Suécia	9,6	11,0	9,2	4.904
Suíça	8,1	11,1	7,3	6.235
Turquia	77,8	5,1	4,0	941
OCDE*	1.283,4	8,9	6,5	3.453
BRASIL**	208,1	8,0	3,6	970

*: Dados da OCDE – População total. Gastos em saúde = média

** : Dados do Brasil sobre gastos em saúde são de 2.013

Disponível em: <<http://mundoseculoxxi.com.br/?p=2742>>. Acesso em: 19 abr. 2017 (Adaptação).

TEXTO II

PEC 01/2015

Aumentará o limite dos gastos do governo federal com a Saúde, obrigando o governo a investir 10% da receita corrente bruta (Saúde+10).

Esta PEC determinará que a União deverá investir, pelo menos, 19,4% de sua receita corrente líquida em ações e serviços públicos de saúde ao final de seis anos, o que equivale a 10% da receita corrente bruta.

Pela lei atual, a União deve investir na Saúde 13,2% da receita corrente líquida para 2016, subindo até 15% em 2020.

Esta PEC tem origem no projeto de lei de iniciativa popular (PLP 321/13) conhecido como Saúde+10.

Segundo o deputado [propositor do Projeto – Vanderlei Macris], o Governo Federal tem diminuído a cada ano a sua participação relativa no financiamento do Sistema Único de Saúde. No ano de 2000, a União respondia por 59% dos recursos em saúde pública. Em 2013, os estados e municípios passaram a ser responsáveis por bancar 56% do custeio do SUS, enquanto a participação da União caiu para 44%.

Disponível em: <<https://goo.gl/mfUyr4>>. Acesso em: 27 mar. 2017 (Adaptação).

PROPOSTA DE REDAÇÃO

Com base na leitura dos textos motivadores e nos conhecimentos construídos ao longo de sua formação, **REDIJA** um texto dissertativo-argumentativo em norma padrão da língua portuguesa, **posicionando-se a favor ou contra a PEC 01/2015**.

Para tanto, apresente sua opinião respeitando os Direitos Humanos. Selecione, organize e relacione, de forma coerente e coesa, argumentos e fatos para a defesa de seu ponto de vista. A transcrição parcial ou total do texto não será considerada para efeito de correção e contabilização do número de linhas.

RASCUNHO DA REDAÇÃO

1	
2	
3	
4	
5	
6	
7	
8	
9	
10	
11	
12	
13	
14	
15	
16	
17	
18	
19	
20	
21	
22	
23	
24	
25	
26	
27	
28	
29	
30	

FOLHA DE RESPOSTAS (RASCUNHO)

01	A	B	C	D	21	A	B	C	D
	<input type="checkbox"/>	<input type="checkbox"/>	<input type="checkbox"/>	<input type="checkbox"/>		<input type="checkbox"/>	<input type="checkbox"/>	<input type="checkbox"/>	<input type="checkbox"/>
	A	B	C	D	22	A	B	C	D
02	<input type="checkbox"/>	<input type="checkbox"/>	<input type="checkbox"/>	<input type="checkbox"/>		<input type="checkbox"/>	<input type="checkbox"/>	<input type="checkbox"/>	<input type="checkbox"/>
	A	B	C	D	23	A	B	C	D
03	<input type="checkbox"/>	<input type="checkbox"/>	<input type="checkbox"/>	<input type="checkbox"/>		<input type="checkbox"/>	<input type="checkbox"/>	<input type="checkbox"/>	<input type="checkbox"/>
	A	B	C	D	24	A	B	C	D
04	<input type="checkbox"/>	<input type="checkbox"/>	<input type="checkbox"/>	<input type="checkbox"/>		<input type="checkbox"/>	<input type="checkbox"/>	<input type="checkbox"/>	<input type="checkbox"/>
	A	B	C	D	25	A	B	C	D
05	<input type="checkbox"/>	<input type="checkbox"/>	<input type="checkbox"/>	<input type="checkbox"/>		<input type="checkbox"/>	<input type="checkbox"/>	<input type="checkbox"/>	<input type="checkbox"/>
	A	B	C	D	26	A	B	C	D
06	<input type="checkbox"/>	<input type="checkbox"/>	<input type="checkbox"/>	<input type="checkbox"/>		<input type="checkbox"/>	<input type="checkbox"/>	<input type="checkbox"/>	<input type="checkbox"/>
	A	B	C	D	27	A	B	C	D
07	<input type="checkbox"/>	<input type="checkbox"/>	<input type="checkbox"/>	<input type="checkbox"/>		<input type="checkbox"/>	<input type="checkbox"/>	<input type="checkbox"/>	<input type="checkbox"/>
	A	B	C	D	28	A	B	C	D
08	<input type="checkbox"/>	<input type="checkbox"/>	<input type="checkbox"/>	<input type="checkbox"/>		<input type="checkbox"/>	<input type="checkbox"/>	<input type="checkbox"/>	<input type="checkbox"/>
	A	B	C	D	29	A	B	C	D
09	<input type="checkbox"/>	<input type="checkbox"/>	<input type="checkbox"/>	<input type="checkbox"/>		<input type="checkbox"/>	<input type="checkbox"/>	<input type="checkbox"/>	<input type="checkbox"/>
	A	B	C	D	30	A	B	C	D
10	<input type="checkbox"/>	<input type="checkbox"/>	<input type="checkbox"/>	<input type="checkbox"/>		<input type="checkbox"/>	<input type="checkbox"/>	<input type="checkbox"/>	<input type="checkbox"/>
	A	B	C	D	31	A	B	C	D
11	<input type="checkbox"/>	<input type="checkbox"/>	<input type="checkbox"/>	<input type="checkbox"/>		<input type="checkbox"/>	<input type="checkbox"/>	<input type="checkbox"/>	<input type="checkbox"/>
	A	B	C	D	32	A	B	C	D
12	<input type="checkbox"/>	<input type="checkbox"/>	<input type="checkbox"/>	<input type="checkbox"/>		<input type="checkbox"/>	<input type="checkbox"/>	<input type="checkbox"/>	<input type="checkbox"/>
	A	B	C	D	33	A	B	C	D
13	<input type="checkbox"/>	<input type="checkbox"/>	<input type="checkbox"/>	<input type="checkbox"/>		<input type="checkbox"/>	<input type="checkbox"/>	<input type="checkbox"/>	<input type="checkbox"/>
	A	B	C	D	34	A	B	C	D
14	<input type="checkbox"/>	<input type="checkbox"/>	<input type="checkbox"/>	<input type="checkbox"/>		<input type="checkbox"/>	<input type="checkbox"/>	<input type="checkbox"/>	<input type="checkbox"/>
	A	B	C	D	35	A	B	C	D
15	<input type="checkbox"/>	<input type="checkbox"/>	<input type="checkbox"/>	<input type="checkbox"/>		<input type="checkbox"/>	<input type="checkbox"/>	<input type="checkbox"/>	<input type="checkbox"/>
	A	B	C	D	36	A	B	C	D
16	<input type="checkbox"/>	<input type="checkbox"/>	<input type="checkbox"/>	<input type="checkbox"/>		<input type="checkbox"/>	<input type="checkbox"/>	<input type="checkbox"/>	<input type="checkbox"/>
	A	B	C	D	37	A	B	C	D
17	<input type="checkbox"/>	<input type="checkbox"/>	<input type="checkbox"/>	<input type="checkbox"/>		<input type="checkbox"/>	<input type="checkbox"/>	<input type="checkbox"/>	<input type="checkbox"/>
	A	B	C	D	38	A	B	C	D
18	<input type="checkbox"/>	<input type="checkbox"/>	<input type="checkbox"/>	<input type="checkbox"/>		<input type="checkbox"/>	<input type="checkbox"/>	<input type="checkbox"/>	<input type="checkbox"/>
	A	B	C	D	39	A	B	C	D
19	<input type="checkbox"/>	<input type="checkbox"/>	<input type="checkbox"/>	<input type="checkbox"/>		<input type="checkbox"/>	<input type="checkbox"/>	<input type="checkbox"/>	<input type="checkbox"/>
	A	B	C	D	40	A	B	C	D
20	<input type="checkbox"/>	<input type="checkbox"/>	<input type="checkbox"/>	<input type="checkbox"/>		<input type="checkbox"/>	<input type="checkbox"/>	<input type="checkbox"/>	<input type="checkbox"/>

AO TRANSFERIR ESSAS MARCAÇÕES PARA A FOLHA DE RESPOSTAS,
OBSERVE AS INSTRUÇÕES ESPECÍFICAS DADAS NA CAPA DA PROVA.

USE CANETA ESFEROGRÁFICA AZUL OU PRETA.

**ATENÇÃO:
AGUARDE AUTORIZAÇÃO
PARA VIRAR O CADERNO DE PROVA.**

ALMOXARIFE

Código: 103

LEIA COM ATENÇÃO AS SEGUINTE INSTRUÇÕES

1. Este caderno contém as questões da **Prova Objetiva** e a **Redação**.
2. Use o rascunho da Folha de Respostas da Prova Objetiva reproduzido ao final deste caderno apenas para marcar o Gabarito.
3. Ao receber a **Folha de Respostas** da **Prova Objetiva** e o **Caderno de Redações**:
 - Confira seu nome, número de inscrição e o cargo.
 - Assine, **A TINTA**, no espaço próprio indicado.

4. **ATENÇÃO**: transcreva no espaço apropriado da sua **FOLHA DE RESPOSTAS**, com sua caligrafia usual, mantendo as letras maiúsculas e minúsculas, desconsiderando aspas e autoria, a seguinte frase:

“A imaginação é mais importante que o conhecimento.” Albert Einstein

ATENÇÃO:

FOLHAS DE RESPOSTAS SEM ASSINATURA NÃO TÊM VALIDADE.

5. Ao transferir as respostas para a **Folha de Respostas**:

01 • use apenas caneta esferográfica azul ou preta;

02 • preencha, sem forçar o papel, toda a área reservada à letra correspondente à resposta solicitada em cada questão;

03 • assinale somente **uma** alternativa em cada questão.

04 Sua resposta **NÃO** será computada se houver marcação de mais de uma alternativa, questões não assinaladas ou rasuras.

NÃO DEIXE NENHUMA QUESTÃO SEM RESPOSTA.

As **Folhas de Respostas** não devem ser dobradas, amassadas ou rasuradas.

ATENÇÃO: Será vedado ao candidato o porte de arma(s) no local de realização das provas, ainda que de posse de documento oficial de licença para o respectivo porte. As instruções constantes no Caderno de Provas e na Folha de Respostas da Prova Objetiva Múltipla Escolha, bem como as orientações e instruções expedidas pela FUNDEP durante a realização das provas, complementam o Edital e deverão ser rigorosamente observadas e seguidas pelo candidato. O candidato somente poderá se retirar do recinto de aplicação de prova após decorridas 2 horas de seu início. Durante a realização da Prova Objetiva, não será permitida a comunicação entre os candidatos, bem como consulta de qualquer natureza a livros, revistas, folhetos ou anotações e nem o uso de aparelhos eletrônicos ou eletromecânicos; como também o uso de boné, boina, chapéu, gorro, lenço ou qualquer outro acessório que impeça a visão total das orelhas do candidato; não será permitido, também, o uso de óculos escuros, sendo eliminado o candidato que descumprir essas determinações. Ao terminar a Prova Objetiva, o candidato entregará ao fiscal o Caderno de Provas, a Folha de Respostas da Prova Objetiva e o Caderno de Prova de Redação, devidamente assinados nos locais apropriados. Ao término do prazo estabelecido para a prova, os três últimos candidatos deverão permanecer na sala até que o último candidato termine sua prova, devendo todos assinar a Ata de Sala, atestando a idoneidade da fiscalização das provas, retirando-se da sala de prova de uma só vez.

O caderno de questões e o gabarito da Prova Objetiva serão divulgados no endereço eletrônico www.gestaodeconcursos.com.br no dia 29 de maio de 2017.

DURAÇÃO MÁXIMA DA PROVA: 4 (QUATRO) HORAS

ATENÇÃO

Sr.(a) Candidato(a),

Antes de começar a fazer a prova, confira se este caderno contém, ao todo, **40 (quarenta) questões de múltipla escolha**, cada uma constituída de 4 (quatro) alternativas de respostas, assim distribuídas: 15 (quinze) questões de **Língua Portuguesa**, 5 (cinco) questões de **Matemática**, 5 (cinco) questões de **Legislação**, 5 (cinco) questões de **Informática**, 10 (dez) questões de **Conhecimentos Específicos** e o tema de **Redação**, todas perfeitamente legíveis.

Havendo algum problema, informe **imediatamente** ao aplicador de provas para que ele tome as providências necessárias.

Caso não observe essa recomendação, não lhe caberá qualquer reclamação ou recursos posteriores.

INSTRUÇÃO: Leia o texto, a seguir, para responder às questões de 1 a 15.

Risco pediátrico

O Tribunal de Contas da União (TCU) pediu acesso ao resultado de centenas de fiscalizações realizadas pelos Conselhos Regionais de Medicina (CRMs) ao longo de 2015. Em meio ao calhamaço de informações, um ponto se destaca: o descaso para com a infraestrutura da rede pública de atenção primária.

É justamente nas 41 mil unidades básicas de saúde (UBS) espalhadas pelo país que os pacientes deveriam ter acesso às ações de promoção da saúde, de prevenção de doenças e de cuidados.

Plenamente eficientes, ajudariam a reduzir a incidência de doenças e a controlar os problemas crônicos, com menos sequelas e mortes, esvaziando hospitais e, o que mais gostam de ouvir os gestores, diminuindo custos. Contudo, os dados mostram uma rede à margem de suas possibilidades. [...]

Das 1.266 UBS vistoriadas pelos CRMs em 2015, um total de 739 (58%) apresentava mais de 30 itens em desconformidade com o estabelecido pelas normas legais em vigor. Sob a responsabilidade dos atuais gestores, deixaram de cumprir exigências criadas pelo próprio Ministério da Saúde.

O descaso transparece em contextos incompatíveis com a dignidade humana e a responsabilidade técnica. Em 41% das unidades, não havia um negatoscópio (aparelho para avaliar uma radiografia) e a falta de estetoscópio foi registrada em 23% das fiscalizações.

A precariedade das instalações em locais onde a limpeza é fundamental também foi percebida. Em 3% das UBS visitadas não havia sanitários para os funcionários; em 8% faltavam pias ou lavabos; sabonete líquido e papel toalha eram itens faltantes em 16% das unidades.

A pediatria é uma das especialidades que mais sofrem com essa situação, que beira o surreal. No Brasil, há 35 mil especialistas na área. Pouco mais de 70% deles atuam na rede pública, principalmente nessa rede que carece de quase tudo. Mesmo assim, num contexto completamente adverso, eles têm se desdobrado para oferecer às crianças e adolescentes o mínimo do que precisam.

Por isso, cuidam da saúde de 50 milhões de brasileiros, com idades de 0 a 18 anos, que dependem exclusivamente do Sistema Único de Saúde (SUS) para ter acesso a consultas médicas, exames, internações e cirurgias. No entanto, no cenário atual, profissionais e pacientes enfrentam situações-limite, que causam desespero nas famílias e impõem dilemas éticos aos médicos, cerceados por fatores que fogem ao seu controle.

Em nome da saúde e do bem-estar dos jovens brasileiros, essa realidade deve ser transformada com urgência. Nesse contexto, a assistência pediátrica de qualidade tem de ser vista como prioridade, pois se ocupa fundamentalmente daqueles que, mais que todos, precisam de uma sociedade que respeite a cidadania.

SILVA, Luciana Rodrigues; FERREIRA, Sidnei. Risco pediátrico. *CFM*. Disponível em: <<http://migre.me/wf9Wn>>. Acesso em: 15 mar. 2017 (Fragmento adaptado).

QUESTÃO 1

Assinale o trecho que **melhor** justifica o título do texto.

- A) “A precariedade das instalações em locais onde a limpeza é fundamental também foi percebida.”
- B) “A falta de instalações adequadas, de equipamentos e insumos não permite que as equipes cumpram suas missões.”
- C) “Pouco mais de 70% deles atuam na rede pública, principalmente nessa rede que carece de quase tudo.”
- D) “Em meio ao calhamaço de informações, um ponto se destaca: o descaso para com a infraestrutura da rede pública de atenção primária.”

QUESTÃO 2

São motivos que, de acordo com o texto, indicam precariedade na infraestrutura da rede pública de atenção primária, **EXCETO**:

- A) Falta de equipamentos médicos.
- B) Falta de materiais de higiene.
- C) Falta de infraestrutura.
- D) Falta de profissionais capacitados.

QUESTÃO 3

São elementos utilizados pelos autores no decorrer do texto, **EXCETO**:

- A) Ironia.
- B) Dados estatísticos.
- C) Argumentação lógica, por causa e consequência.
- D) Apelo sentimental.

QUESTÃO 4

Releia o trecho a seguir.

“No entanto, no cenário atual, profissionais e pacientes enfrentam situações-limite, que causam desespero nas famílias e impõem dilemas éticos aos médicos, **cerceados** por fatores que fogem ao seu controle.”

O verbo “cercear”, destacado nesse trecho, pode ser substituído por:

- A) abolir
- B) limitar.
- C) suprimir.
- D) cortar.

QUESTÃO 5

Releia o trecho a seguir.

“Plenamente eficientes, ajudariam a reduzir a incidência de doenças e a controlar os problemas crônicos, com menos sequelas e mortes, esvaziando hospitais e, o que mais gostam de ouvir os gestores, diminuindo custos. **Contudo**, os dados mostram uma rede à margem de suas possibilidades.”

Assinale a alternativa em que a reescrita do trecho mantém o sentido original desse trecho.

- A) Plenamente eficientes, ajudariam a reduzir a incidência de doenças e a controlar os problemas crônicos, com menos sequelas e mortes, esvaziando hospitais e, o que mais gostam de ouvir os gestores, diminuindo custos. **Portanto**, os dados mostram uma rede à margem de suas possibilidades.
- B) Plenamente eficientes, ajudariam a reduzir a incidência de doenças e a controlar os problemas crônicos, com menos sequelas e mortes, esvaziando hospitais e, o que mais gostam de ouvir os gestores, diminuindo custos. **Todavia**, os dados mostram uma rede à margem de suas possibilidades.
- C) Plenamente eficientes, ajudariam a reduzir a incidência de doenças e a controlar os problemas crônicos, com menos sequelas e mortes, esvaziando hospitais e, o que mais gostam de ouvir os gestores, diminuindo custos. **Consequentemente**, os dados mostram uma rede à margem de suas possibilidades.
- D) Plenamente eficientes, ajudariam a reduzir a incidência de doenças e a controlar os problemas crônicos, com menos sequelas e mortes, esvaziando hospitais e, o que mais gostam de ouvir os gestores, diminuindo custos. **Conforme**, os dados mostram uma rede à margem de suas possibilidades.

QUESTÃO 6

Assinale a alternativa cuja ideia entre colchetes **não** está presente no respectivo trecho.

- A) “Das 1.266 UBS vistoriadas pelos CMRs em 2015, um total de 739 (58%) apresentava mais de 30 itens em desconformidade com o estabelecido pelas normas legais em vigor.” [MAIORIA]
- B) “Em meio ao calhamaço de informações, um ponto se destaca: o descaso para com a infraestrutura da rede pública de atenção primária.” [EXCLUSIVIDADE]
- C) “[...] essa realidade deve ser transformada com urgência.” [PREMÊNCIA]
- D) “Pouco mais de 70% deles atuam na rede pública, principalmente nessa rede que carece de quase tudo.” [MAIORIA]

QUESTÃO 7

Releia o trecho a seguir.

“A precariedade das instalações em locais **onde** a limpeza é fundamental também foi percebida.”

Em relação à palavra destacada, de acordo com a norma padrão da língua portuguesa, assinale alternativa **CORRETA**.

- A) É usada com verbos que indicam movimento.
- B) Pode ser substituída por “aonde”.
- C) Foi utilizado corretamente, assim como em “Existem lances onde os juizes erram”.
- D) Pode ser substituída pela locução “em que”.

QUESTÃO 8

Releia o trecho a seguir.

“[...] os dados mostram uma rede **à margem de** suas possibilidades.”

De acordo com o que pode ser interpretado do texto, a locução destacada indica que a rede:

- A) necessita de melhor infraestrutura.
- B) é superdimensionada.
- C) poderia ser melhor aproveitada.
- D) atende um método de pacientes superior ao que é capaz.

QUESTÃO 9

Releia o trecho a seguir.

“Em 41% das unidades, não havia um negatoscópio (aparelho para avaliar uma radiografia) [...]”

De acordo com a norma padrão da língua portuguesa e com o contexto em que aparecem, assinale a alternativa **incorreta** sobre o uso dos parênteses.

- A) Podem ser substituídos por travessões.
- B) Servem para inserir uma nova informação no texto.
- C) Podem ser substituídos por vírgulas.
- D) Servem para demarcar uma oração fora do contexto textual.

QUESTÃO 10

Releia o trecho a seguir.

“[...] eles têm se desdobrado para oferecer às crianças e adolescentes o mínimo do que precisam.”

Analise as afirmativas a seguir a respeito do acento indicativo de crase desse trecho.

- I. É regido pelo verbo “oferecer”.
- II. Indica a fusão de um artigo com uma preposição.
- III. É facultativo.

De acordo com a norma padrão da língua portuguesa, estão **corretas** as afirmativas:

- A) I e II, apenas.
- B) I e III, apenas.
- C) II e III, apenas.
- D) I, II e III.

QUESTÃO 11

Releia o trecho a seguir.

“Nesse contexto, a assistência pediátrica de qualidade tem de ser vista como prioridade, **pois** se ocupa fundamentalmente daqueles que, mais que todos, precisam de uma sociedade que respeite a cidadania.”

A conjunção destacada confere a esse trecho uma ideia de:

- A) explicação.
- B) conclusão.
- C) condição.
- D) tempo.

QUESTÃO 12

Releia o trecho a seguir.

“Em 41% das unidades, não havia um negatoscópio (aparelho para avaliar uma radiografia) e a falta de estetoscópio foi registrada em 23% das fiscalizações.”

O substantivo “negatoscópio” é formado por “negato” (de negativo) e o elemento “-scópio”, assim como “estetoscópio” é formado por “esteto-” (peito) e o mesmo elemento “-scópio”. De forma semelhante existem diversas outras palavras com esse tipo de formação, como microscópio, caleidoscópio, telescópio e outras.

A esse respeito, assinale a alternativa que apresenta o significado do elemento “-scópio”.

- A) Instrumento para observar.
- B) Dispositivo para isolar.
- C) Instrumento para auscultar.
- D) Dispositivo para cortar.

QUESTÃO 13

O texto apresentado é, predominantemente, um(a):

- A) notícia, porque o texto se limita a expor os fatos, sem emitir opiniões.
- B) artigo de opinião, pois é possível verificar, pela leitura do texto, um determinado ponto de vista.
- C) artigo científico, pois vale-se de dados científicos para embasar o texto.
- D) resenha, uma vez que analisa e expõe os dados de uma pesquisa realizada.

QUESTÃO 14

Releia o trecho a seguir.

“Por isso, **cuidam** da saúde de 50 milhões de brasileiros, com idades de 0 a 18 anos, que **dependem** exclusivamente do Sistema Único de Saúde (SUS) para ter acesso a consultas médicas, exames, internações e cirurgias. No entanto, no cenário atual, profissionais e pacientes **enfrentam** situações-limite, que **causam** desespero nas famílias e **impõem** dilemas éticos aos médicos, cerceados por fatores que fogem ao seu controle.”

Em relação aos verbos destacados, analise as afirmativas a seguir.

- I. Estão flexionados no mesmo tempo verbal.
- II. Estão flexionados na mesma pessoa do discurso.
- III. Estão flexionados no mesmo modo.

De acordo com a norma padrão da língua portuguesa, estão **corretas** as afirmativas:

- A) I e II, apenas.
- B) I e III, apenas.
- C) II e III, apenas.
- D) I, II e III.

QUESTÃO 15

Releia o trecho a seguir.

“O descaso transparece em contextos **incompatíveis** com a dignidade **humana** e a responsabilidade **técnica**. Em 41% das unidades, não havia um negatoscópio (aparelho para avaliar uma radiografia) e a falta de estetoscópio foi registrada em 23% das **fiscalizações**.”

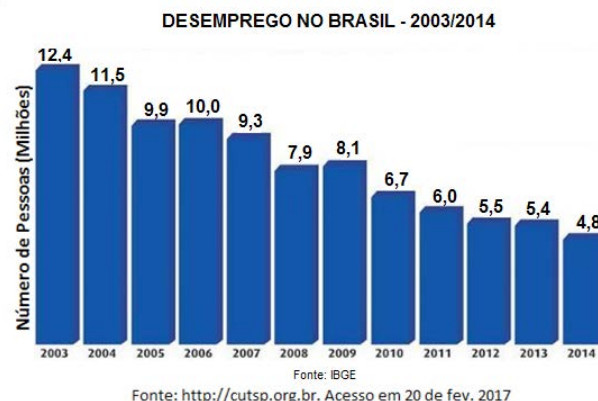
Assinale a alternativa em que a palavra destacada **não** qualifica outra nesse trecho.

- A) Incompatíveis
- B) Humana
- C) Técnica
- D) Fiscalizações

MATEMÁTICA

QUESTÃO 16

Observe o gráfico que mostra o número de desempregados no Brasil no período de 2003 a 2014.



A partir dos dados apresentados no gráfico, é **possível** afirmar que:

- A) houve uma diminuição do número de desempregados de 2008 para 2009.
- B) o ano em que houve o maior número de desempregados foi 2014.
- C) houve um aumento do número de desempregados de 2012 para 2013.
- D) o número de desempregados aumentou de 2005 para 2006.

QUESTÃO 17

Observe a tabela que mostra as contas que Mariana paga mensalmente utilizando o débito automático em sua conta bancária.

Conta	Valor	Data do débito automático
Água	R\$ 124,15	Todo dia 10 de cada mês
Energia elétrica	R\$ 185,10	
Telefone	R\$ 132,52	

No dia 8 de fevereiro de 2017, ela foi ao banco e verificou que o saldo de sua conta corrente estava negativo em R\$ 358,00.

Quanto Mariana teve que depositar para que no dia 12 de fevereiro tivesse um saldo positivo de R\$ 150,00?

- A) R\$ 441,77
- B) R\$ 799,77
- C) R\$ 817,77
- D) R\$ 949,77

QUESTÃO 18

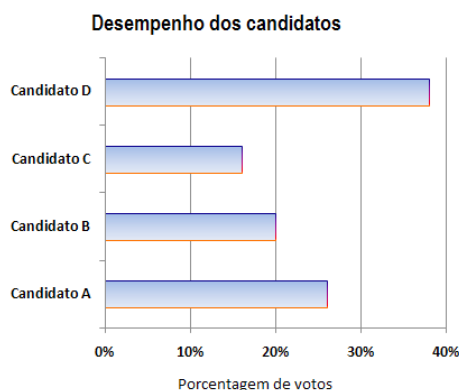
João participou da última edição da Volta Internacional da Pampulha, uma das grandes provas do calendário brasileiro, realizada no primeiro domingo de dezembro em Belo Horizonte. O percurso total dessa prova é de 17,8 km. João conseguiu percorrer 9,75 km da prova.

Quantos quilômetros faltaram para ele concluir o percurso?

- A) 28,55 km
- B) 17,80 km
- C) 9,75 km
- D) 8,05 km

QUESTÃO 19

Observe o gráfico que mostra o desempenho de quatro candidatos na eleição para presidente do Sindicato dos Servidores de Saúde da cidade de Pontal.



A sequência de candidatos que representa a classificação final dessa eleição em ordem decrescente é:

- A) C; B; A; D.
- B) D; B; A; C.
- C) D; A; B; C.
- D) C; D; A; B.

QUESTÃO 20

Veja, a seguir, a oferta da loja Magazine Bom Preço:

Aproveite a Promoção!
Forno Micro-ondas
De R\$ 720,00
Por apenas R\$ 504,00

Nessa oferta, o desconto é de:

- A) 70%.
- B) 50%.
- C) 30%.
- D) 10%.

LEGISLAÇÃO

QUESTÃO 21

Entre os conselheiros do Conselho Federal de Medicina, **não** há representantes:

- A) dos municípios.
- B) dos estados da Federação.
- C) do Distrito Federal.
- D) da Associação Médica Brasileira.

QUESTÃO 22

Analise as seguintes afirmativas sobre os processos relativos a infrações ético-profissionais no âmbito dos Conselhos Regionais e Federal de Medicina.

- I. A competência para apreciar e julgar as infrações é do Conselho Regional de Medicina, que detém a inscrição do médico ao tempo da ocorrência do ato punível.
- II. A sindicância só será instalada mediante denúncia, não se admitindo a instauração de ofício.
- III. Os recursos contra a aplicação de penalidades só terão efeito suspensivo, salvo no caso de cassação do registro profissional.

Segundo o que dispõe o *Código de Processo Ético-Profissional*, está(ão) **correta(s)** a(s) afirmativa(s):

- A) I, apenas.
- B) I e II, apenas.
- C) III, apenas.
- D) I, II e III.

QUESTÃO 23

A responsabilidade pelas informações prestadas aos Conselhos Federal e Regionais de Medicina por empresas, instituições, entidades ou estabelecimentos prestadores e / ou intermediadores de assistência à saúde é do seu:

- A) diretor-presidente.
- B) diretor jurídico.
- C) diretor-médico.
- D) representante legal.

QUESTÃO 24

Compõem a Comissão Mista de Especialidade, que tem a competência de definir as especialidades médicas no país, **EXCETO**:

- A) Conselho Federal de Medicina – CFM.
- B) Associação Médica Brasileira – AMB.
- C) Comissão Nacional de Residência Médica – CNRM.
- D) Associação Brasileira de Educação Médica- ABEM.

QUESTÃO 25

Segundo o *Código de Processo Ético-Profissional de Medicina*, no âmbito dos Conselhos Federal e Regionais de Medicina, o relatório conclusivo de uma comissão de sindicância pode indicar diversos encaminhamentos, entre os quais **não** se inclui:

- A) o arquivamento da sindicância.
- B) a conciliação.
- C) a imediata comunicação do fato à autoridade competente do Ministério Público.
- D) a instauração de processo ético-profissional.

INFORMÁTICA

QUESTÃO 26

As fórmulas do MS Excel são essenciais e auxiliam na criação de planilhas eletrônicas.

Assinale a alternativa que apresenta a fórmula utilizada no MS Excel para somar todos os números em um intervalo de células.

- A) =PROCV()
- B) =DESC()
- C) =SOMA()
- D) =BD()

QUESTÃO 27

Quais são as teclas que, se pressionadas juntas no MS Word, acionarão as opções para recorte de um texto ou objeto selecionado no documento aberto?

- A) Ctrl+c
- B) Ctrl+v
- C) Ctrl+x
- D) Ctrl+Shift+e

QUESTÃO 28

Assinale a alternativa que apresenta **corretamente** o formato do Excel que é usado para exibir o valor em quantias monetárias em geral.

- A) Moeda
- B) Data
- C) Número
- D) Fração

QUESTÃO 29

Analise a planilha a seguir gerada pelo Excel.

	A	B	
1	2	4	
2	1	9	
3	3	8	
4	2	5	
5			

Qual o resultado da célula C1=SOMASE(A1:A4;2;B1:B4)?

- A) 9
- B) 8
- C) 3
- D) 4

QUESTÃO 30

Assinale a alternativa que apresenta **corretamente** um programa que habilita seus usuários a navegar na internet interagindo com documentos HTML, hospedados em um servidor web.

- A) Bloco de notas
- B) Adobe Reader
- C) Power Point
- D) Google Chrome

CONHECIMENTOS ESPECÍFICOS

ALMOXARIFE

QUESTÃO 31

No planejamento de estoques, a classificação de materiais é condição para um resultado de sucesso. A curva ABC fornece os dados necessários para análise e planejamento.

Com relação aos procedimentos de classificação de materiais, assinale a alternativa **INCORRETA**.

- A) A ordenação dos itens deve obedecer ao critério do menor para o maior investimento.
- B) Para cada item, deve-se determinar o investimento anual (preço unitário x consumo anual) que ele acarreta.
- C) Na coleta de dados, devem ser informados: identificação do item, quantidade consumida ou projetada para o período e valor unitário.
- D) Calcular a porcentagem que cada item representa no investimento total e, em seguida, as porcentagens acumuladas.

QUESTÃO 32

Em um almoxarifado, o trabalho está quase sempre envolvido com cargas e mercadorias.

A esse respeito, avalie as afirmativas a seguir e assinale com **V** as **verdadeiras** e com **F** as **falsas**.

- () Um mesmo item pode ser chamado de carga, quando está em trânsito, ou de mercadoria, quando está disponível para ser comercializado.
- () Cargas gerais, normalmente, são acondicionadas em sacos, caixas, paletes, etc. Também, podem ser classificados como carga geral os produtos que não são embalados por causa de suas dimensões, como máquinas e veículos.
- () Cargas especiais são aquelas que irão envolver situações e tratamentos específicos, como produtos que necessitam de refrigeração, alguns tipos de alimentos, materiais para análises clínicas e fluidos inflamáveis.
- () Cargas primárias incluem todo tipo de matéria-prima, como celulose, grãos, trigo, minério, leite não embalado e soja ensacada para exportação.

Assinale a sequência **CORRETA**.

- A) V V V V
- B) V V V F
- C) F V F V
- D) V F V F

QUESTÃO 33

_____ é a garantia da estabilidade do processo produtivo. Determina a quantidade de peças que deverá existir em estoque destinada a cobrir eventuais atrasos no suprimento, problemas com fornecedores, oscilações no consumo ou outros problemas.

Assinale a alternativa que completa **corretamente** a lacuna anterior.

- A) Estoque suporte
- B) Estoque mínimo
- C) Giro de estoque
- D) Estoque médio

QUESTÃO 34

Analise os números apresentados na tabela a seguir.

Classe	% Itens	% Valor
A	5	80
B	10	15
C	85	5

Com base nessa tabela, seguindo os critérios da curva ABC, **não** se pode afirmar:

- A) A tabela pode orientar a tomada de decisão quanto à forma de abastecimento e ao investimento de estoque.
- B) 15% dos itens devem ter um giro mais rápido, buscando-se um índice de duas ou mais vezes por mês.
- C) 85% dos itens têm valor relativo pequeno e a massa de investimento em estoque atinge somente 5% do investimento total.
- D) Deve-se aumentar o valor do investimento para os itens B e C, buscando-se uma melhor proporcionalidade ou equilíbrio.

QUESTÃO 35

Quando se aborda o processo de classificação dos itens de almoxarifado, um sistema complexo é necessário e muitas questões saltam à mente. Cruz *et al* (2015) destacam as principais.

A esse respeito, assinale a alternativa **CORRETA**.

- A) A identificação só é possível com os itens devidamente endereçados.
- B) A codificação só é possível com os itens já cadastrados e catalogados.
- C) A catalogação só é possível depois dos itens já identificados, codificados e cadastrados.
- D) A catalogação é a primeira etapa do processo de classificação, guarda e localização de produtos ou materiais.

QUESTÃO 36

Considere a quantidade de vezes, em determinado período, que o estoque médio que a empresa mantém é vendido. É a relação entre o consumo anual e o estoque médio do produto.

Essa descrição refere-se à(ao):

- A) estoque permanente.
- B) giro de estoque.
- C) curva de Pareto.
- D) estoque médio.

QUESTÃO 37

No cerne da gestão de documentos e arquivos, é interessante estar atento a algumas questões fundamentais.

Quanto à gestão de documentos, assinale a alternativa **INCORRETA**.

- A) Encaminhar as cópias, acompanhadas de antecedentes que lhes deram origem, ao setor de Arquivamento é tarefa ou rotina da expedição.
- B) Embora as atividades de protocolo, expedição e arquivo corrente sejam distintas, o ideal é que funcionem de forma integrada, com vistas à racionalização de tarefas comuns.
- C) Recebimento de malotes, encaminhamento de correspondência sigilosa aos respectivos destinatários e dos papéis ao setor de Registro e Movimentação são tarefas ou rotinas do Protocolo.
- D) Inscrever os dados constantes da ficha de protocolo nas fichas de procedência e encaminhar os documentos aos respectivos destinos, de acordo com o despacho de autoridade competente, são rotinas do setor de Destinação.

QUESTÃO 38

Esta técnica serve para representar genericamente um processo, um conjunto de atividades ou parte de um conjunto maior. Por regra geral, o(a) _____ deve ser construído(a) de cima para baixo e da direita para a esquerda, no sentido do formulário, embora essa disposição não seja rígida e sirva a princípio apenas para dar ordem à representação gráfica.

Assinale a alternativa que completa **corretamente** a lacuna anterior.

- A) fluxograma
- B) organograma
- C) planilha radial
- D) diagrama de Ishikawa

QUESTÃO 39

Quanto ao estudo e à avaliação dos custos de estoques, assinale a alternativa **INCORRETA**.

- A) Todo e qualquer armazenamento de material gera custos.
- B) Juros, depreciação, aluguel, seguros, obsolescência e deterioração devem ser contabilizados nos custos de armazenamento.
- C) Os custos de armazenamento são calculados baseados no estoque máximo e geralmente indicados em percentual do valor em estoque.
- D) Existem duas variáveis que aumentam diretamente os custos de armazenagem: a quantidade em estoque e o tempo de permanência em estoque.

QUESTÃO 40

O leiaute é um tópico de fundamental importância para planejamento, melhorias e gestão de estoques e almoxarifados.

Assinale a alternativa que apresenta os pontos de destaque para se projetar um leiaute para armazenagem.

- A) Horários de funcionamento, escalas, número de pessoal
- B) Níveis, sistemas informatizados de gestão e especializações departamentais
- C) Itens de estoque, corredores, portas de acesso, prateleiras e estruturas de acondicionamento
- D) Número de paletes, posição das oficinas, normas regulamentadoras e critérios para aprovação de alvará

INSTRUÇÕES GERAIS

1. A Prova de Redação deverá conter **no mínimo 18** (dezoito) e **no máximo 30** (trinta) linhas.
2. O que for escrito além do espaço destinado ao candidato para a redação (30 linhas) não será corrigido, sendo o candidato penalizado pelos problemas de compreensão de seu texto (PO, M, CC e / ou CP).
3. Somente serão corrigidas as provas redigidas com caneta esferográfica de tinta azul ou preta, não sendo permitido uso de lápis ou corretivo de texto.
4. O candidato somente poderá apor seu número de inscrição, nome ou assinatura em lugar especificamente indicado para tal finalidade, sob pena de anulação da prova de redação e consequente eliminação do concurso, caso proceda de forma contrária.
5. Não serão fornecidas folhas adicionais para complementação da redação, devendo o candidato limitar-se a uma única folha padrão recebida.

CRITÉRIOS DE AVALIAÇÃO DA PROVA DE REDAÇÃO		
ASPECTOS AVALIADOS	TOTAL DE PONTOS	PONTOS DESCONTADOS POR ERRO
Pontuação, acentuação e ortografia (PO).	5,0 pontos	0,25
Morfossintaxe (emprego dos pronomes, concordância verbal e nominal, oração e período, vozes do verbo) (M).	5,0 pontos	0,25
Coesão e coerência (CC).	5,0 pontos	1,0
Compreensão / conhecimento do conteúdo proposto e propriedade da resposta à temática (CP).	5,0 pontos	1,0
TOTAL	20 pontos	

TEXTO I

Gastos em saúde e o PIB em 35 países

A tabela a seguir estruturada mostra os dados disponibilizados em 2015 pela OCDE [Organização para a Cooperação e o Desenvolvimento Econômico] sobre Gastos Nacionais em Saúde – dispêndios totais como percentual do Produto Interno Bruto (PIB), dispêndios do setor público como % do PIB e gastos totais *per capita* – para os 34 países que compõem a OCDE, além do Brasil.

[...]

Os dados econômicos aqui listados são os consolidados para o ano de 2012. A coluna de população por país, no entanto, fornece o dado mais atual, ou seja, de fevereiro de 2016. [...]

POPULAÇÃO E GASTOS EM SAÚDE EM 35 PAÍSES				
PAÍS	POPULAÇÃO (em milhões) 2016	GASTOS EM SAÚDE em % do PIB (2012)		
		Total	Público	<i>Per capita</i> (em US\$)
Alemanha	79,7	11,0	8,3	4.819
Austrália	23,8	8,8	5,9	3.866
Áustria	8,4	10,1	7,7	4.553
Bélgica	11,2	10,1	8,0	4.256
Canadá	35,9	10,2	7,2	4.351
Chile	18,1	7,3	3,4	1.606
Coreia	50,5	6,9	3,8	2.275
Dinamarca	5,6	10,4	8,8	4.553
Eslováquia	5,4	7,6	5,6	2.010
Eslovênia	2,0	8,7	6,2	2.511
Espanha	47,9	8,8	6,7	2.898
Estados Unidos	326,8	16,4	7,9	8.414
Estônia	1,3	6,2	4,8	1.542
Finlândia	5,4	8,6	6,5	3.442
França	67,0	10,9	8,6	4.124
Grécia	11,1	9,2	6,0	2.366
Holanda	17,0	11,1	9,7	5.131
Hungria	9,8	7,4	4,4	2.428
Irlanda	4,8	8,1	5,5	3.663
Islândia	0,3	8,7	7,1	3.677
Israel	8,4	7,5	4,4	2.428
Itália	60,6	8,8	6,8	3.077
Japão	126,1	10,2	8,5	3.173
Luxemburgo	0,6	6,6	5,5	4.371
México	126,4	6,2	3,2	1.048
Noruega	5,1	8,9	7,6	5.862
Nova Zelândia	4,6	9,5	7,6	3.328
Polónia	38,4	6,4	4,5	1.530
Portugal	10,6	9,1	6,1	2.514
Reino Unido	65,1	8,5	7,0	3.235
Rep. Checa	10,5	7,1	6,0	2.040
Suécia	9,6	11,0	9,2	4.904
Suíça	8,1	11,1	7,3	6.235
Turquia	77,8	5,1	4,0	941
OCDE*	1.283,4	8,9	6,5	3.453
BRASIL**	208,1	8,0	3,6	970

*: Dados da OCDE – População total. Gastos em saúde = média

** : Dados do Brasil sobre gastos em saúde são de 2.013

Disponível em: <<http://mundoseculoxxi.com.br/?p=2742>>. Acesso em: 19 abr. 2017 (Adaptação).

TEXTO II

PEC 01/2015

Aumentará o limite dos gastos do governo federal com a Saúde, obrigando o governo a investir 10% da receita corrente bruta (Saúde+10).

Esta PEC determinará que a União deverá investir, pelo menos, 19,4% de sua receita corrente líquida em ações e serviços públicos de saúde ao final de seis anos, o que equivale a 10% da receita corrente bruta.

Pela lei atual, a União deve investir na Saúde 13,2% da receita corrente líquida para 2016, subindo até 15% em 2020.

Esta PEC tem origem no projeto de lei de iniciativa popular (PLP 321/13) conhecido como Saúde+10.

Segundo o deputado [propositor do Projeto – Vanderlei Macris], o Governo Federal tem diminuído a cada ano a sua participação relativa no financiamento do Sistema Único de Saúde. No ano de 2000, a União respondia por 59% dos recursos em saúde pública. Em 2013, os estados e municípios passaram a ser responsáveis por bancar 56% do custeio do SUS, enquanto a participação da União caiu para 44%.

Disponível em: <<https://goo.gl/mfUyr4>>. Acesso em: 27 mar. 2017 (Adaptação).

PROPOSTA DE REDAÇÃO

Com base na leitura dos textos motivadores e nos conhecimentos construídos ao longo de sua formação, **REDIJA** um texto dissertativo-argumentativo em norma padrão da língua portuguesa, **posicionando-se a favor ou contra a PEC 01/2015**.

Para tanto, apresente sua opinião respeitando os Direitos Humanos. Selecione, organize e relacione, de forma coerente e coesa, argumentos e fatos para a defesa de seu ponto de vista. A transcrição parcial ou total do texto não será considerada para efeito de correção e contabilização do número de linhas.

RASCUNHO DA REDAÇÃO

1	
2	
3	
4	
5	
6	
7	
8	
9	
10	
11	
12	
13	
14	
15	
16	
17	
18	
19	
20	
21	
22	
23	
24	
25	
26	
27	
28	
29	
30	

FOLHA DE RESPOSTAS (RASCUNHO)

01	A	B	C	D				
	A	B	C	D				
02	A	B	C	D				
	A	B	C	D				
03	A	B	C	D				
	A	B	C	D				
04	A	B	C	D				
	A	B	C	D				
05	A	B	C	D				
	A	B	C	D				
06	A	B	C	D				
	A	B	C	D				
07	A	B	C	D				
	A	B	C	D				
08	A	B	C	D				
	A	B	C	D				
09	A	B	C	D				
	A	B	C	D				
10	A	B	C	D				
	A	B	C	D				
11	A	B	C	D				
	A	B	C	D				
12	A	B	C	D				
	A	B	C	D				
13	A	B	C	D				
	A	B	C	D				
14	A	B	C	D				
	A	B	C	D				
15	A	B	C	D				
	A	B	C	D				
16	A	B	C	D				
	A	B	C	D				
17	A	B	C	D				
	A	B	C	D				
18	A	B	C	D				
	A	B	C	D				
19	A	B	C	D				
	A	B	C	D				
20	A	B	C	D				
	A	B	C	D				
21	A	B	C	D				
	A	B	C	D				
22	A	B	C	D				
	A	B	C	D				
23	A	B	C	D				
	A	B	C	D				
24	A	B	C	D				
	A	B	C	D				
25	A	B	C	D				
	A	B	C	D				
26	A	B	C	D				
	A	B	C	D				
27	A	B	C	D				
	A	B	C	D				
28	A	B	C	D				
	A	B	C	D				
29	A	B	C	D				
	A	B	C	D				
30	A	B	C	D				
	A	B	C	D				
31	A	B	C	D				
	A	B	C	D				
32	A	B	C	D				
	A	B	C	D				
33	A	B	C	D				
	A	B	C	D				
34	A	B	C	D				
	A	B	C	D				
35	A	B	C	D				
	A	B	C	D				
36	A	B	C	D				
	A	B	C	D				
37	A	B	C	D				
	A	B	C	D				
38	A	B	C	D				
	A	B	C	D				
39	A	B	C	D				
	A	B	C	D				
40	A	B	C	D				

AO TRANSFERIR ESSAS MARCAÇÕES PARA A FOLHA DE RESPOSTAS,
OBSERVE AS INSTRUÇÕES ESPECÍFICAS DADAS NA CAPA DA PROVA.

USE CANETA ESFEROGRÁFICA AZUL OU PRETA.

**ATENÇÃO:
AGUARDE AUTORIZAÇÃO
PARA VIRAR O CADERNO DE PROVA.**

TÉCNICO EM CONTABILIDADE

Código: 104

LEIA COM ATENÇÃO AS SEGUINTE INSTRUÇÕES

1. Este caderno contém as questões da **Prova Objetiva** e a **Redação**.
2. Use o rascunho da Folha de Respostas da Prova Objetiva reproduzido ao final deste caderno apenas para marcar o Gabarito.
3. Ao receber a **Folha de Respostas** da **Prova Objetiva** e o **Caderno de Redações**:
 - Confira seu nome, número de inscrição e o cargo.
 - Assine, **A TINTA**, no espaço próprio indicado.

4. **ATENÇÃO**: transcreva no espaço apropriado da sua **FOLHA DE RESPOSTAS**, com sua caligrafia usual, mantendo as letras maiúsculas e minúsculas, desconsiderando aspas e autoria, a seguinte frase:

“A imaginação é mais importante que o conhecimento.” Albert Einstein

ATENÇÃO:

FOLHAS DE RESPOSTAS SEM ASSINATURA NÃO TÊM VALIDADE.

5. Ao transferir as respostas para a **Folha de Respostas**:

01 • use apenas caneta esferográfica azul ou preta;

02 • preencha, sem forçar o papel, toda a área reservada à letra correspondente à resposta solicitada em cada questão;

03 • assinale somente **uma** alternativa em cada questão.

04 Sua resposta **NÃO** será computada se houver marcação de mais de uma alternativa, questões não assinaladas ou rasuras.

NÃO DEIXE NENHUMA QUESTÃO SEM RESPOSTA.

As **Folhas de Respostas** não devem ser dobradas, amassadas ou rasuradas.

ATENÇÃO: Será vedado ao candidato o porte de arma(s) no local de realização das provas, ainda que de posse de documento oficial de licença para o respectivo porte. As instruções constantes no Caderno de Provas e na Folha de Respostas da Prova Objetiva Múltipla Escolha, bem como as orientações e instruções expedidas pela FUNDEP durante a realização das provas, complementam o Edital e deverão ser rigorosamente observadas e seguidas pelo candidato. O candidato somente poderá se retirar do recinto de aplicação de prova após decorridas 2 horas de seu início. Durante a realização da Prova Objetiva, não será permitida a comunicação entre os candidatos, bem como consulta de qualquer natureza a livros, revistas, folhetos ou anotações e nem o uso de aparelhos eletrônicos ou eletromecânicos; como também o uso de boné, boina, chapéu, gorro, lenço ou qualquer outro acessório que impeça a visão total das orelhas do candidato; não será permitido, também, o uso de óculos escuros, sendo eliminado o candidato que descumprir essas determinações. Ao terminar a Prova Objetiva, o candidato entregará ao fiscal o Caderno de Provas, a Folha de Respostas da Prova Objetiva e o Caderno de Prova de Redação, devidamente assinados nos locais apropriados. Ao término do prazo estabelecido para a prova, os três últimos candidatos deverão permanecer na sala até que o último candidato termine sua prova, devendo todos assinar a Ata de Sala, atestando a idoneidade da fiscalização das provas, retirando-se da sala de prova de uma só vez.

O caderno de questões e o gabarito da Prova Objetiva serão divulgados no endereço eletrônico www.gestaodeconcursos.com.br no dia 29 de maio de 2017.

DURAÇÃO MÁXIMA DA PROVA: 4 (QUATRO) HORAS

ATENÇÃO

Sr.(a) Candidato(a),

Antes de começar a fazer a prova, confira se este caderno contém, ao todo, **40 (quarenta) questões de múltipla escolha**, cada uma constituída de 4 (quatro) alternativas de respostas, assim distribuídas: 10 (dez) questões de **Língua Portuguesa**, 5 (cinco) questões de **Matemática**, 5 (cinco) questões de **Legislação**, 5 (cinco) questões de **Informática**, 15 (quinze) questões de **Conhecimentos Específicos** e o tema de **Redação**, todas perfeitamente legíveis.

Havendo algum problema, informe **imediatamente** ao aplicador de provas para que ele tome as providências necessárias.

Caso não observe essa recomendação, não lhe caberá qualquer reclamação ou recursos posteriores.

INSTRUÇÃO: Leia o texto, a seguir, para responder às questões de 1 a 10.

Risco pediátrico

O Tribunal de Contas da União (TCU) pediu acesso ao resultado de centenas de fiscalizações realizadas pelos Conselhos Regionais de Medicina (CRMs) ao longo de 2015. Em meio ao calhamaço de informações, um ponto se destaca: o descaso para com a infraestrutura da rede pública de atenção primária.

É justamente nas 41 mil unidades básicas de saúde (UBS) espalhadas pelo país que os pacientes deveriam ter acesso às ações de promoção da saúde, de prevenção de doenças e de cuidados.

Plenamente eficientes, ajudariam a reduzir a incidência de doenças e a controlar os problemas crônicos, com menos sequelas e mortes, esvaziando hospitais e, o que mais gostam de ouvir os gestores, diminuindo custos. Contudo, os dados mostram uma rede à margem de suas possibilidades. [...]

Das 1.266 UBS vistoriadas pelos CRMs em 2015, um total de 739 (58%) apresentava mais de 30 itens em desconformidade com o estabelecido pelas normas legais em vigor. Sob a responsabilidade dos atuais gestores, deixaram de cumprir exigências criadas pelo próprio Ministério da Saúde.

O descaso transparece em contextos incompatíveis com a dignidade humana e a responsabilidade técnica. Em 41% das unidades, não havia um negatoscópio (aparelho para avaliar uma radiografia) e a falta de estetoscópio foi registrada em 23% das fiscalizações.

A precariedade das instalações em locais onde a limpeza é fundamental também foi percebida. Em 3% das UBS visitadas não havia sanitários para os funcionários; em 8% faltavam pias ou lavabos; sabonete líquido e papel toalha eram itens faltantes em 16% das unidades.

A pediatria é uma das especialidades que mais sofrem com essa situação, que beira o surreal. No Brasil, há 35 mil especialistas na área. Pouco mais de 70% deles atuam na rede pública, principalmente nessa rede que carece de quase tudo. Mesmo assim, num contexto completamente adverso, eles têm se desdobrado para oferecer às crianças e adolescentes o mínimo do que precisam.

Por isso, cuidam da saúde de 50 milhões de brasileiros, com idades de 0 a 18 anos, que dependem exclusivamente do Sistema Único de Saúde (SUS) para ter acesso a consultas médicas, exames, internações e cirurgias. No entanto, no cenário atual, profissionais e pacientes enfrentam situações-limite, que causam desespero nas famílias e impõem dilemas éticos aos médicos, cerceados por fatores que fogem ao seu controle.

Em nome da saúde e do bem-estar dos jovens brasileiros, essa realidade deve ser transformada com urgência. Nesse contexto, a assistência pediátrica de qualidade tem de ser vista como prioridade, pois se ocupa fundamentalmente daqueles que, mais que todos, precisam de uma sociedade que respeite a cidadania.

SILVA, Luciana Rodrigues; FERREIRA, Sidnei. Risco pediátrico. *CFM*. Disponível em: <<http://migre.me/wf9Wn>>. Acesso em: 15 mar. 2017 (Fragmento adaptado).

QUESTÃO 1

Assinale o trecho que **melhor** justifica o título do texto.

- A) “A precariedade das instalações em locais onde a limpeza é fundamental também foi percebida.”
- B) “A falta de instalações adequadas, de equipamentos e insumos não permite que as equipes cumpram suas missões.”
- C) “Pouco mais de 70% deles atuam na rede pública, principalmente nessa rede que carece de quase tudo.”
- D) “Em meio ao calhamaço de informações, um ponto se destaca: o descaso para com a infraestrutura da rede pública de atenção primária.”

QUESTÃO 2

São motivos que, de acordo com o texto, indicam precariedade na infraestrutura da rede pública de atenção primária, **EXCETO**:

- A) Falta de equipamentos médicos.
- B) Falta de materiais de higiene.
- C) Falta de infraestrutura.
- D) Falta de profissionais capacitados.

QUESTÃO 3

São elementos utilizados pelos autores no decorrer do texto, **EXCETO**:

- A) Ironia.
- B) Dados estatísticos.
- C) Argumentação lógica, por causa e consequência.
- D) Apelo sentimental.

QUESTÃO 4

Releia o trecho a seguir.

“No entanto, no cenário atual, profissionais e pacientes enfrentam situações-limite, que causam desespero nas famílias e impõem dilemas éticos aos médicos, **cerceados** por fatores que fogem ao seu controle.”

O verbo “cercear”, destacado nesse trecho, pode ser substituído por:

- A) abolir
- B) limitar.
- C) suprimir.
- D) cortar.

QUESTÃO 5

Releia o trecho a seguir.

“Plenamente eficientes, ajudariam a reduzir a incidência de doenças e a controlar os problemas crônicos, com menos sequelas e mortes, esvaziando hospitais e, o que mais gostam de ouvir os gestores, diminuindo custos. **Contudo**, os dados mostram uma rede à margem de suas possibilidades.”

Assinale a alternativa em que a reescrita do trecho mantém o sentido original desse trecho.

- A) Plenamente eficientes, ajudariam a reduzir a incidência de doenças e a controlar os problemas crônicos, com menos sequelas e mortes, esvaziando hospitais e, o que mais gostam de ouvir os gestores, diminuindo custos. **Portanto**, os dados mostram uma rede à margem de suas possibilidades.
- B) Plenamente eficientes, ajudariam a reduzir a incidência de doenças e a controlar os problemas crônicos, com menos sequelas e mortes, esvaziando hospitais e, o que mais gostam de ouvir os gestores, diminuindo custos. **Todavia**, os dados mostram uma rede à margem de suas possibilidades.
- C) Plenamente eficientes, ajudariam a reduzir a incidência de doenças e a controlar os problemas crônicos, com menos sequelas e mortes, esvaziando hospitais e, o que mais gostam de ouvir os gestores, diminuindo custos. **Consequentemente**, os dados mostram uma rede à margem de suas possibilidades.
- D) Plenamente eficientes, ajudariam a reduzir a incidência de doenças e a controlar os problemas crônicos, com menos sequelas e mortes, esvaziando hospitais e, o que mais gostam de ouvir os gestores, diminuindo custos. **Conforme**, os dados mostram uma rede à margem de suas possibilidades.

QUESTÃO 6

Assinale a alternativa cuja ideia entre colchetes **não** está presente no respectivo trecho.

- A) “Das 1.266 UBS vistoriadas pelos CMRs em 2015, um total de 739 (58%) apresentava mais de 30 itens em desconformidade com o estabelecido pelas normas legais em vigor.” [MAIORIA]
- B) “Em meio ao calhamaço de informações, um ponto se destaca: o descaso para com a infraestrutura da rede pública de atenção primária.” [EXCLUSIVIDADE]
- C) “[...] essa realidade deve ser transformada com urgência.” [PREMÊNCIA]
- D) “Pouco mais de 70% deles atuam na rede pública, principalmente nessa rede que carece de quase tudo.” [MAIORIA]

QUESTÃO 7

Releia o trecho a seguir.

“A precariedade das instalações em locais **onde** a limpeza é fundamental também foi percebida.”

Em relação à palavra destacada, de acordo com a norma padrão da língua portuguesa, assinale alternativa **CORRETA**.

- A) É usada com verbos que indicam movimento.
- B) Pode ser substituída por “aonde”.
- C) Foi utilizado corretamente, assim como em “Existem lances onde os juizes erram”.
- D) Pode ser substituída pela locução “em que”.

QUESTÃO 8

Releia o trecho a seguir.

“[...] os dados mostram uma rede **à margem de** suas possibilidades.”

De acordo com o que pode ser interpretado do texto, a locução destacada indica que a rede:

- A) necessita de melhor infraestrutura.
- B) é superdimensionada.
- C) poderia ser melhor aproveitada.
- D) atende um método de pacientes superior ao que é capaz.

QUESTÃO 9

Releia o trecho a seguir.

“Em 41% das unidades, não havia um negatoscópio (aparelho para avaliar uma radiografia) [...]”

De acordo com a norma padrão da língua portuguesa e com o contexto em que aparecem, assinale a alternativa **incorreta** sobre o uso dos parênteses.

- A) Podem ser substituídos por travessões.
- B) Servem para inserir uma nova informação no texto.
- C) Podem ser substituídos por vírgulas.
- D) Servem para demarcar uma oração fora do contexto textual.

QUESTÃO 10

Releia o trecho a seguir.

“[...] eles têm se desdobrado para oferecer às crianças e adolescentes o mínimo do que precisam.”

Analise as afirmativas a seguir a respeito do acento indicativo de crase desse trecho.

- I. É regido pelo verbo “oferecer”.
- II. Indica a fusão de um artigo com uma preposição.
- III. É facultativo.

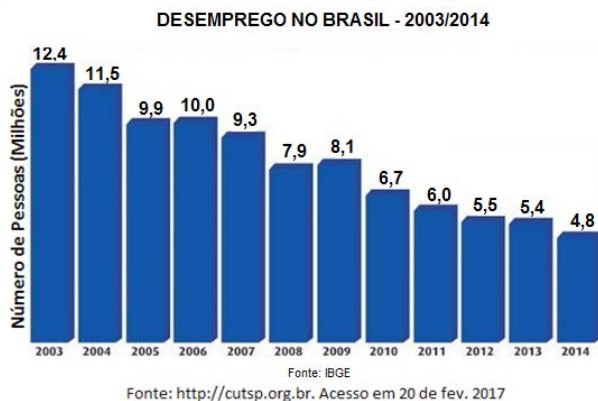
De acordo com a norma padrão da língua portuguesa, estão **corretas** as afirmativas:

- A) I e II, apenas.
- B) I e III, apenas.
- C) II e III, apenas.
- D) I, II e III.

MATEMÁTICA

QUESTÃO 11

Observe o gráfico que mostra o número de desempregados no Brasil no período de 2003 a 2014.



A partir dos dados apresentados no gráfico, é possível afirmar que:

- A) houve uma diminuição do número de desempregados de 2008 para 2009.
- B) o ano em que houve o maior número de desempregados foi 2014.
- C) houve um aumento do número de desempregados de 2012 para 2013.
- D) o número de desempregados aumentou de 2005 para 2006.

QUESTÃO 12

Observe a tabela que mostra as contas que Mariana paga mensalmente utilizando o débito automático em sua conta bancária.

Conta	Valor	Data do débito automático
Água	R\$ 124,15	Todo dia 10 de cada mês
Energia elétrica	R\$ 185,10	
Telefone	R\$ 132,52	

No dia 8 de fevereiro de 2017, ela foi ao banco e verificou que o saldo de sua conta corrente estava negativo em R\$ 358,00.

Quanto Mariana teve que depositar para que no dia 12 de fevereiro tivesse um saldo positivo de R\$ 150,00?

- A) R\$ 441,77
- B) R\$ 799,77
- C) R\$ 817,77
- D) R\$ 949,77

QUESTÃO 13

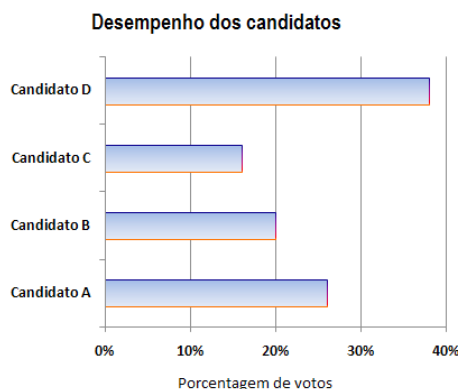
João participou da última edição da Volta Internacional da Pampulha, uma das grandes provas do calendário brasileiro, realizada no primeiro domingo de dezembro em Belo Horizonte. O percurso total dessa prova é de 17,8 km. João conseguiu percorrer 9,75 km da prova.

Quantos quilômetros faltaram para ele concluir o percurso?

- A) 28,55 km
- B) 17,80 km
- C) 9,75 km
- D) 8,05 km

QUESTÃO 14

Observe o gráfico que mostra o desempenho de quatro candidatos na eleição para presidente do Sindicato dos Servidores de Saúde da cidade de Pontal.



A sequência de candidatos que representa a classificação final dessa eleição em ordem decrescente é:

- A) C; B; A; D.
- B) D; B; A; C.
- C) D; A; B; C.
- D) C; D; A; B.

QUESTÃO 15

Veja, a seguir, a oferta da loja Magazine Bom Preço:

Aproveite a Promoção!
Forno Micro-ondas
De R\$ 720,00
Por apenas R\$ 504,00

Nessa oferta, o desconto é de:

- A) 70%.
- B) 50%.
- C) 30%.
- D) 10%.

LEGISLAÇÃO

QUESTÃO 16

Entre os conselheiros do Conselho Federal de Medicina, não há representantes:

- A) dos municípios.
- B) dos estados da Federação.
- C) do Distrito Federal.
- D) da Associação Médica Brasileira.

QUESTÃO 17

Analise as seguintes afirmativas sobre os processos relativos a infrações ético-profissionais no âmbito dos Conselhos Regionais e Federal de Medicina.

- I. A competência para apreciar e julgar as infrações é do Conselho Regional de Medicina, que detém a inscrição do médico ao tempo da ocorrência do ato punível.
- II. A sindicância só será instalada mediante denúncia, não se admitindo a instauração de ofício.
- III. Os recursos contra a aplicação de penalidades só terão efeito suspensivo, salvo no caso de cassação do registro profissional.

Segundo o que dispõe o *Código de Processo Ético-Profissional*, está(ão) **correta(s)** a(s) afirmativa(s):

- A) I, apenas.
- B) I e II, apenas.
- C) III, apenas.
- D) I, II e III.

QUESTÃO 18

A responsabilidade pelas informações prestadas aos Conselhos Federal e Regionais de Medicina por empresas, instituições, entidades ou estabelecimentos prestadores e / ou intermediadores de assistência à saúde é do seu:

- A) diretor-presidente.
- B) diretor jurídico.
- C) diretor-médico.
- D) representante legal.

QUESTÃO 19

Compõem a Comissão Mista de Especialidade, que tem a competência de definir as especialidades médicas no país, **EXCETO**:

- A) Conselho Federal de Medicina – CFM.
- B) Associação Médica Brasileira – AMB.
- C) Comissão Nacional de Residência Médica – CNRM.
- D) Associação Brasileira de Educação Médica- ABEM.

QUESTÃO 20

Segundo o *Código de Processo Ético-Profissional de Medicina*, no âmbito dos Conselhos Federal e Regionais de Medicina, o relatório conclusivo de uma comissão de sindicância pode indicar diversos encaminhamentos, entre os quais **não** se inclui:

- A) o arquivamento da sindicância.
- B) a conciliação.
- C) a imediata comunicação do fato à autoridade competente do Ministério Público.
- D) a instauração de processo ético-profissional.

INFORMÁTICA

QUESTÃO 21

As fórmulas do MS Excel são essenciais e auxiliam na criação de planilhas eletrônicas.

Assinale a alternativa que apresenta a fórmula utilizada no MS Excel para somar todos os números em um intervalo de células.

- A) =PROCV()
- B) =DESC()
- C) =SOMA()
- D) =BD()

QUESTÃO 22

Quais são as teclas que, se pressionadas juntas no MS Word, acionarão as opções para recorte de um texto ou objeto selecionado no documento aberto?

- A) Ctrl+c
- B) Ctrl+v
- C) Ctrl+x
- D) Ctrl+Shift+e

QUESTÃO 23

Assinale a alternativa que apresenta **corretamente** o formato do Excel que é usado para exibir o valor em quantias monetárias em geral.

- A) Moeda
- B) Data
- C) Número
- D) Fração

QUESTÃO 24

Analise a planilha a seguir gerada pelo Excel.

	A	B
1	2	4
2	1	9
3	3	8
4	2	5
5		

Qual o resultado da célula C1 =SOMASE(A1:A4;2;B1:B4)?

- A) 9
- B) 8
- C) 3
- D) 4

QUESTÃO 25

Assinale a alternativa que apresenta **corretamente** um programa que habilita seus usuários a navegar na internet interagindo com documentos HTML, hospedados em um servidor web.

- A) Bloco de notas
- B) Adobe Reader
- C) Power Point
- D) Google Chrome

CONHECIMENTOS ESPECÍFICOS

TÉCNICO EM CONTABILIDADE

QUESTÃO 26

De acordo com o Artigo 145 da Constituição Federal, no que se refere ao Sistema Tributário Nacional, assinale a alternativa **INCORRETA**.

- A) A União, os estados, o Distrito Federal e os municípios poderão instituir impostos e contribuição de melhoria.
- B) Somente a União e os estados poderão instituir taxas em razão do exercício do poder de polícia.
- C) As taxas não poderão ter base de cálculo própria de impostos.
- D) Sempre que possível, os impostos terão caráter pessoal e serão graduados segundo a capacidade econômica do contribuinte.

QUESTÃO 27

De acordo com a Lei Nº 4.320, de 17 de março de 1964, a Lei do Orçamento conterá:

- A) todas as receitas, menos as de operações de crédito autorizadas em lei.
- B) o sumário geral da receita por fontes e da despesa por funções do Governo.
- C) todas as receitas e despesas da Lei de Orçamento, pelos seus valores subtraídos de suas deduções.
- D) as cotas de receitas que uma entidade pública deva transferir a outra, incluindo, como receita, no orçamento da entidade obrigada a transferência e, como despesa, no orçamento da que as deva receber.

QUESTÃO 28

A Lei Complementar Nº 101, de 4 de maio de 2000, estabelece, em seu Artigo 59, os aspectos referentes à fiscalização do cumprimento das normas dessa Lei Complementar.

Em relação a essa fiscalização da gestão fiscal, assinale a alternativa **INCORRETA**.

- A) Os Tribunais de Contas auxiliarão direta ou indiretamente a fiscalização do cumprimento das normas da Lei Nº 101/2000.
- B) A destinação de recursos obtidos com a alienação de ativos deverá ser levada em conta no processo de fiscalização do cumprimento da referida Lei.
- C) O Poder Judiciário fiscalizará o cumprimento das normas da Lei Nº 101/2000.
- D) A fiscalização da gestão fiscal dará ênfase, entre outros assuntos, aos limites e condições para realização de operações de crédito e inscrição em Restos a Pagar.

QUESTÃO 29

Com relação ao que consta na Estrutura Conceitual para Elaboração e Divulgação de Informação Contábil de Propósito Geral pelas Entidades do Setor Público (NBC TSP Estrutura Conceitual), considere as afirmativas a seguir.

- I. A NBC TSP Estrutura Conceitual estabelece os conceitos que devem ser aplicados no desenvolvimento das demais Normas Brasileiras de Contabilidade Aplicadas ao Setor Público (NBCs TSP) do Conselho Federal de Contabilidade (CFC) destinados às entidades do setor público.
- II. No setor público, a principal razão de se manterem ativos imobilizados e outros ativos é voltada para sua capacidade de gerar fluxos de caixa.
- III. Em caso de eventual conflito entre essa estrutura conceitual e outras NBCs TSP, prevalecem as disposições específicas vigentes na primeira (estrutura conceitual) em relação às constantes nas outras.

Conforme essa Norma do Conselho Federal de Contabilidade, está(ão) **correta(s)** a(s) afirmativa(s):

- A) I, apenas.
- B) I e II, apenas.
- C) II, apenas.
- D) I e III, apenas.

QUESTÃO 30

De acordo com o Artigo 165 da Constituição Federal, as Leis de iniciativa do Poder Executivo estabelecerão o plano plurianual, as diretrizes orçamentárias e os orçamentos anuais.

Com relação a esse assunto, considere as afirmativas a seguir.

- I. A lei que instituir o plano plurianual estabelecerá, de forma regionalizada, as diretrizes, objetivos e metas da administração pública federal para as despesas de capital e outras delas decorrentes e para as relativas aos programas de duração continuada.
- II. O plano plurianual orientará a elaboração da lei orçamentária anual, disporá sobre as alterações na legislação tributária e estabelecerá a política de aplicação das agências financeiras oficiais de fomento.
- III. O Poder Executivo publicará, até trinta dias após o encerramento de cada semestre, relatório resumido da execução orçamentária.

Conforme essa Norma do Conselho Federal de Contabilidade, está(ão) **correta(s)** a(s) afirmativa(s):

- A) I e II, apenas.
- B) III, apenas.
- C) I, apenas.
- D) I e III, apenas.

QUESTÃO 31

Sobre os princípios orçamentários, assinale a alternativa **INCORRETA**.

- A) O Princípio da Unidade determina existência de orçamento único para cada um dos entes federados – União, estados, Distrito Federal e municípios.
- B) Pelo Princípio da Exclusividade, a Lei Orçamentária Anual não poderá conter a autorização para abertura de crédito suplementar e a contratação de operações de crédito.
- C) Pelo Princípio do Orçamento Bruto, as receitas e despesas devem estar na Lei Orçamentária Anual pelo valor total e bruto, vedadas quaisquer deduções.
- D) O Princípio da Totalidade determina que a Lei Orçamentária Anual de cada ente federado deverá conter todas as receitas e despesas de todos os poderes, órgãos, entidades, fundos e fundações instituídas e mantidas pelo Poder Público.

QUESTÃO 32

De acordo com a classificação de despesas públicas por categorias econômicas (Despesas Correntes e Despesas de Capital), assinale a alternativa **INCORRETA**.

- A) A concessão de empréstimos é classificada como despesas de capital – inversões financeiras.
- B) O valor referente ao pagamento de juros da dívida pública é classificado como despesa corrente – transferências.
- C) O valor relativo ao pagamento de inativos e pensionistas é registrado como despesa corrente – custeio.
- D) A amortização da Dívida Pública é classificada como despesa de capital – transferências.

QUESTÃO 33

Sobre os estágios (etapas) da receita pública, assinale a alternativa **CORRETA**.

- A) O reconhecimento da receita orçamentária ocorre no momento do lançamento.
- B) A previsão de receitas é a etapa que antecede a fixação do montante de despesas que irão constar nas leis de orçamento, além de ser base para se estimar as necessidades de financiamento do governo.
- C) O estágio do recolhimento refere-se à entrega, realizada pelos contribuintes ou devedores, aos agentes arrecadadores ou bancos autorizados pelo ente, dos recursos devidos ao Tesouro.
- D) A etapa da arrecadação constitui a transferência dos valores arrecadados à conta específica do Tesouro.

QUESTÃO 34

Com relação aos critérios e procedimentos para a avaliação e a mensuração de ativos e passivos integrantes do patrimônio de entidades do setor público, considere as afirmativas a seguir.

- I. O critério de mensuração ou avaliação dos ativos intangíveis obtidos a título gratuito e a eventual impossibilidade de sua valoração devem ser evidenciados no Balanço Patrimonial.
- II. Os acréscimos ou os decréscimos do valor do ativo em decorrência, respectivamente, de reavaliação ou redução ao valor recuperável (*impairment*) devem ser registrados em contas do Patrimônio Líquido.
- III. Os gastos posteriores à aquisição ou ao registro de elemento do ativo imobilizado devem ser incorporados ao valor desse ativo quando houver possibilidade de geração de benefícios econômicos futuros ou potenciais de serviços.

Conforme essa Norma do Conselho Federal de Contabilidade, está(ão) **incorreta(s)** a(s) afirmativa(s):

- A) I, apenas.
- B) II, apenas.
- C) I e III, apenas.
- D) I e II, apenas.

QUESTÃO 35

A Instrução Normativa da Secretaria da Receita Federal Nº 1234/12 trata da retenção na fonte dos tributos federais.

A esse respeito, assinale a alternativa **INCORRETA**.

- A) O percentual da retenção a ser aplicado sobre o valor a ser pago corresponderá à espécie do bem fornecido ou do serviço prestado, conforme estabelecido em contrato.
- B) Não serão retidos os valores correspondentes ao Imposto de Renda e às contribuições de que trata a Instrução Normativa Nº 1234/12 nos pagamentos efetuados a serviços sociais autônomos, criados ou autorizados por lei.
- C) As autarquias não devem efetuar as retenções na fonte da Contribuição para o Financiamento da Seguridade Social (Cofins) e da Contribuição para o PIS/Pasep sobre os pagamentos que elas fizerem às pessoas jurídicas, pelo fornecimento de bens ou prestação de serviços em geral.
- D) Nos pagamentos efetuados às associações de profissionais ou assemelhadas, pela prestação de serviços, será retido o Imposto de Renda na fonte à alíquota de 1,5% (um inteiro e cinco décimos por cento) sobre as importâncias relativas aos serviços pessoais prestados por seus cooperados ou associados.

QUESTÃO 36

O Plano de Contas Aplicado ao Setor Público (PCASP) foi criado com o objetivo de melhorar a evidenciação dos fenômenos patrimoniais e a busca por um tratamento contábil padronizado dos atos e fatos administrativos no âmbito do setor público.

Com relação ao PCASP, assinale a alternativa **INCORRETA**.

- A) O plano de contas de uma entidade tem como objetivo atender, de maneira uniforme e sistematizada, ao registro contábil dos atos e fatos praticados pela entidade.
- B) As contas do PCASP são agrupadas segundo suas funções, possibilitando a realização de análise e interpretação dos resultados econômicos e financeiros do ente público.
- C) Uma das diretrizes do PCASP refere-se à permissão para que os entes detalhem, conforme suas necessidades, os níveis inferiores das contas a partir do nível seguinte ao padronizado.
- D) O campo de aplicação do PCASP abrange todas as entidades governamentais, inclusive as estatais independentes.

QUESTÃO 37

Com relação à retenção na fonte dos tributos federais, assinale a alternativa **INCORRETA**.

- A) As fundações federais deverão efetuar as retenções na fonte do Imposto sobre a Renda (IR), da Contribuição Social sobre o Lucro Líquido (CSLL), da Contribuição para o Financiamento da Seguridade Social (Cofins) e da Contribuição para o PIS/Pasep sobre os pagamentos que efetuarem às pessoas jurídicas, pelo fornecimento de bens ou prestação de serviços em gerais.
- B) Não serão retidos os valores correspondentes ao Imposto de Renda e às contribuições de que trata Instrução Normativa Nº 1234/12, nos pagamentos efetuados a partidos políticos.
- C) Serão retidos os valores correspondentes ao Imposto de Renda e às contribuições de que trata a Instrução Normativa Nº 1234/12, nos pagamentos efetuados a conselhos de fiscalização de profissões regulamentadas.
- D) Os valores retidos deverão ser recolhidos ao Tesouro Nacional pelos entes públicos que efetuarem a retenção até o terceiro dia útil da semana subsequente àquela em que tiver ocorrido o pagamento à pessoa jurídica fornecedora dos bens ou prestadora do serviço.

QUESTÃO 38

Relacione as Demonstrações Contábeis Aplicadas ao Setor Público, apresentadas na COLUNA I, com o conceito apresentado na COLUNA II.

COLUNA I

1. Balanço Patrimonial
2. Balanço Financeiro
3. Balanço Orçamentário
4. Demonstração do Fluxo de Caixa
5. Demonstração das Variações Patrimoniais

COLUNA II

- () Demonstra as despesas e receitas previstas e realizadas.
- () Evidencia a receita e a despesa orçamentárias bem como os recebimentos e os pagamentos de natureza extraorçamentária, conjugados com os saldos em espécie provenientes do exercício anterior, e os que se transferem para o exercício seguinte.
- () Evidencia as alterações verificadas no patrimônio, resultantes ou independentes da execução orçamentária, e indica o resultado patrimonial do exercício.
- () Evidencia, qualitativa e quantitativamente a situação patrimonial da entidade pública, por meio de contas representativas do patrimônio público.
- () Demonstra quais foram as saídas e entradas de dinheiro no caixa durante o período.

Assinale a sequência **CORRETA**.

- A) 1 5 3 4 2
- B) 5 3 4 1 2
- C) 4 2 5 3 1
- D) 3 2 5 1 4

QUESTÃO 39

Com relação às Demonstrações Contábeis Aplicadas ao setor público, assinale a alternativa **INCORRETA**.

- A) As variações quantitativas, evidenciadas na Demonstração das Variações Patrimoniais, são decorrentes de transações no setor público que aumentam ou diminuem o patrimônio líquido.
- B) O Balanço Financeiro demonstra as receitas e despesas previstas em confronto com as realizadas.
- C) Em sua estrutura, o Balanço Orçamentário deve evidenciar as receitas por fonte (espécie), e as despesas, por grupo de natureza.
- D) No Balanço Patrimonial, especificamente no grupo do Patrimônio Líquido, deve ser evidenciado o resultado do período segregado dos resultados acumulados de períodos anteriores.

QUESTÃO 40

O capítulo 2 da Lei Complementar Nº 101, de 4 de maio de 2000, estabelece os aspectos referentes ao planejamento público.

Em relação a esse assunto, assinale a alternativa **CORRETA**.

- A) A Lei de Diretrizes Orçamentárias disporá sobre as normas relativas ao controle de custos e à avaliação dos resultados dos programas financiados com recursos dos orçamentos.
- B) Poder-se-á consignar na lei orçamentária crédito com finalidade imprecisa ou com dotação ilimitada.
- C) A atualização monetária do principal da dívida mobiliária refinanciada deverá ser igual ou superior à variação do índice de preços previsto na lei de diretrizes orçamentárias ou em legislação específica.
- D) O plano plurianual deverá conter o Anexo de Metas Fiscais.

INSTRUÇÕES GERAIS

1. A Prova de Redação deverá conter **no mínimo 18** (dezoito) e **no máximo 30** (trinta) linhas.
2. O que for escrito além do espaço destinado ao candidato para a redação (30 linhas) não será corrigido, sendo o candidato penalizado pelos problemas de compreensão de seu texto (PO, M, CC e / ou CP).
3. Somente serão corrigidas as provas redigidas com caneta esferográfica de tinta azul ou preta, não sendo permitido uso de lápis ou corretivo de texto.
4. O candidato somente poderá apor seu número de inscrição, nome ou assinatura em lugar especificamente indicado para tal finalidade, sob pena de anulação da prova de redação e consequente eliminação do concurso, caso proceda de forma contrária.
5. Não serão fornecidas folhas adicionais para complementação da redação, devendo o candidato limitar-se a uma única folha padrão recebida.

CRITÉRIOS DE AVALIAÇÃO DA PROVA DE REDAÇÃO		
ASPECTOS AVALIADOS	TOTAL DE PONTOS	PONTOS DESCONTADOS POR ERRO
Pontuação, acentuação e ortografia (PO).	5,0 pontos	0,25
Morfossintaxe (emprego dos pronomes, concordância verbal e nominal, oração e período, vozes do verbo) (M).	5,0 pontos	0,25
Coesão e coerência (CC).	5,0 pontos	1,0
Compreensão / conhecimento do conteúdo proposto e propriedade da resposta à temática (CP).	5,0 pontos	1,0
TOTAL	20 pontos	

TEXTO I

Gastos em saúde e o PIB em 35 países

A tabela a seguir estruturada mostra os dados disponibilizados em 2015 pela OCDE [Organização para a Cooperação e o Desenvolvimento Econômico] sobre Gastos Nacionais em Saúde – dispêndios totais como percentual do Produto Interno Bruto (PIB), dispêndios do setor público como % do PIB e gastos totais *per capita* – para os 34 países que compõem a OCDE, além do Brasil.

[...]

Os dados econômicos aqui listados são os consolidados para o ano de 2012. A coluna de população por país, no entanto, fornece o dado mais atual, ou seja, de fevereiro de 2016. [...]

POPULAÇÃO E GASTOS EM SAÚDE EM 35 PAÍSES				
PAÍS	POPULAÇÃO (em milhões) 2016	GASTOS EM SAÚDE em % do PIB (2012)		
		Total	Público	<i>Per capita</i> (em US\$)
Alemanha	79,7	11,0	8,3	4.819
Austrália	23,8	8,8	5,9	3.866
Áustria	8,4	10,1	7,7	4.553
Bélgica	11,2	10,1	8,0	4.256
Canadá	35,9	10,2	7,2	4.351
Chile	18,1	7,3	3,4	1.606
Coreia	50,5	6,9	3,8	2.275
Dinamarca	5,6	10,4	8,8	4.553
Eslováquia	5,4	7,6	5,6	2.010
Eslovênia	2,0	8,7	6,2	2.511
Espanha	47,9	8,8	6,7	2.898
Estados Unidos	326,8	16,4	7,9	8.414
Estônia	1,3	6,2	4,8	1.542
Finlândia	5,4	8,6	6,5	3.442
França	67,0	10,9	8,6	4.124
Grécia	11,1	9,2	6,0	2.366
Holanda	17,0	11,1	9,7	5.131
Hungria	9,8	7,4	4,4	2.428
Irlanda	4,8	8,1	5,5	3.663
Islândia	0,3	8,7	7,1	3.677
Israel	8,4	7,5	4,4	2.428
Itália	60,6	8,8	6,8	3.077
Japão	126,1	10,2	8,5	3.173
Luxemburgo	0,6	6,6	5,5	4.371
México	126,4	6,2	3,2	1.048
Noruega	5,1	8,9	7,6	5.862
Nova Zelândia	4,6	9,5	7,6	3.328
Polônia	38,4	6,4	4,5	1.530
Portugal	10,6	9,1	6,1	2.514
Reino Unido	65,1	8,5	7,0	3.235
Rep. Checa	10,5	7,1	6,0	2.040
Suécia	9,6	11,0	9,2	4.904
Suíça	8,1	11,1	7,3	6.235
Turquia	77,8	5,1	4,0	941
OCDE*	1.283,4	8,9	6,5	3.453
BRASIL**	208,1	8,0	3,6	970

*: Dados da OCDE – População total. Gastos em saúde = média

** : Dados do Brasil sobre gastos em saúde são de 2.013

Disponível em: <<http://mundoseculoxxi.com.br/?p=2742>>. Acesso em: 19 abr. 2017 (Adaptação).

TEXTO II

PEC 01/2015

Aumentará o limite dos gastos do governo federal com a Saúde, obrigando o governo a investir 10% da receita corrente bruta (Saúde+10).

Esta PEC determinará que a União deverá investir, pelo menos, 19,4% de sua receita corrente líquida em ações e serviços públicos de saúde ao final de seis anos, o que equivale a 10% da receita corrente bruta.

Pela lei atual, a União deve investir na Saúde 13,2% da receita corrente líquida para 2016, subindo até 15% em 2020.

Esta PEC tem origem no projeto de lei de iniciativa popular (PLP 321/13) conhecido como Saúde+10.

Segundo o deputado [propositor do Projeto – Vanderlei Macris], o Governo Federal tem diminuído a cada ano a sua participação relativa no financiamento do Sistema Único de Saúde. No ano de 2000, a União respondia por 59% dos recursos em saúde pública. Em 2013, os estados e municípios passaram a ser responsáveis por bancar 56% do custeio do SUS, enquanto a participação da União caiu para 44%.

Disponível em: <<https://goo.gl/mfUyr4>>. Acesso em: 27 mar. 2017 (Adaptação).

PROPOSTA DE REDAÇÃO

Com base na leitura dos textos motivadores e nos conhecimentos construídos ao longo de sua formação, **REDIJA** um texto dissertativo-argumentativo em norma padrão da língua portuguesa, **posicionando-se a favor ou contra a PEC 01/2015**.

Para tanto, apresente sua opinião respeitando os Direitos Humanos. Selecione, organize e relacione, de forma coerente e coesa, argumentos e fatos para a defesa de seu ponto de vista. A transcrição parcial ou total do texto não será considerada para efeito de correção e contabilização do número de linhas.

RASCUNHO DA REDAÇÃO

1	
2	
3	
4	
5	
6	
7	
8	
9	
10	
11	
12	
13	
14	
15	
16	
17	
18	
19	
20	
21	
22	
23	
24	
25	
26	
27	
28	
29	
30	

FOLHA DE RESPOSTAS (RASCUNHO)

01	A	B	C	D				
	A	B	C	D				
02	A	B	C	D				
	A	B	C	D				
03	A	B	C	D				
	A	B	C	D				
04	A	B	C	D				
	A	B	C	D				
05	A	B	C	D				
	A	B	C	D				
06	A	B	C	D				
	A	B	C	D				
07	A	B	C	D				
	A	B	C	D				
08	A	B	C	D				
	A	B	C	D				
09	A	B	C	D				
	A	B	C	D				
10	A	B	C	D				
	A	B	C	D				
11	A	B	C	D				
	A	B	C	D				
12	A	B	C	D				
	A	B	C	D				
13	A	B	C	D				
	A	B	C	D				
14	A	B	C	D				
	A	B	C	D				
15	A	B	C	D				
	A	B	C	D				
16	A	B	C	D				
	A	B	C	D				
17	A	B	C	D				
	A	B	C	D				
18	A	B	C	D				
	A	B	C	D				
19	A	B	C	D				
	A	B	C	D				
20	A	B	C	D				
	A	B	C	D				
21	A	B	C	D				
	A	B	C	D				
22	A	B	C	D				
	A	B	C	D				
23	A	B	C	D				
	A	B	C	D				
24	A	B	C	D				
	A	B	C	D				
25	A	B	C	D				
	A	B	C	D				
26	A	B	C	D				
	A	B	C	D				
27	A	B	C	D				
	A	B	C	D				
28	A	B	C	D				
	A	B	C	D				
29	A	B	C	D				
	A	B	C	D				
30	A	B	C	D				
	A	B	C	D				
31	A	B	C	D				
	A	B	C	D				
32	A	B	C	D				
	A	B	C	D				
33	A	B	C	D				
	A	B	C	D				
34	A	B	C	D				
	A	B	C	D				
35	A	B	C	D				
	A	B	C	D				
36	A	B	C	D				
	A	B	C	D				
37	A	B	C	D				
	A	B	C	D				
38	A	B	C	D				
	A	B	C	D				
39	A	B	C	D				
	A	B	C	D				
40	A	B	C	D				

AO TRANSFERIR ESSAS MARCAÇÕES PARA A FOLHA DE RESPOSTAS,
OBSERVE AS INSTRUÇÕES ESPECÍFICAS DADAS NA CAPA DA PROVA.

USE CANETA ESFEROGRÁFICA AZUL OU PRETA.

**ATENÇÃO:
AGUARDE AUTORIZAÇÃO
PARA VIRAR O CADERNO DE PROVA.**

TÉCNICO EM INFORMÁTICA

Código: 105

LEIA COM ATENÇÃO AS SEGUINTE INSTRUÇÕES

1. Este caderno contém as questões da **Prova Objetiva** e a **Redação**.
2. Use o rascunho da Folha de Respostas da Prova Objetiva reproduzido ao final deste caderno apenas para marcar o Gabarito.
3. Ao receber a **Folha de Respostas** da **Prova Objetiva** e o **Caderno de Redações**:
 - Confira seu nome, número de inscrição e o cargo.
 - Assine, **A TINTA**, no espaço próprio indicado.

4. **ATENÇÃO**: transcreva no espaço apropriado da sua **FOLHA DE RESPOSTAS**, com sua caligrafia usual, mantendo as letras maiúsculas e minúsculas, desconsiderando aspas e autoria, a seguinte frase:

“A imaginação é mais importante que o conhecimento.” Albert Einstein

ATENÇÃO:

FOLHAS DE RESPOSTAS SEM ASSINATURA NÃO TÊM VALIDADE.

5. Ao transferir as respostas para a **Folha de Respostas**:

01 • use apenas caneta esferográfica azul ou preta;

02 • preencha, sem forçar o papel, toda a área reservada à letra correspondente à resposta solicitada em cada questão;

03 • assinale somente **uma** alternativa em cada questão.

04 Sua resposta **NÃO** será computada se houver marcação de mais de uma alternativa, questões não assinaladas ou rasuras.

NÃO DEIXE NENHUMA QUESTÃO SEM RESPOSTA.

As **Folhas de Respostas** não devem ser dobradas, amassadas ou rasuradas.

ATENÇÃO: Será vedado ao candidato o porte de arma(s) no local de realização das provas, ainda que de posse de documento oficial de licença para o respectivo porte. As instruções constantes no Caderno de Provas e na Folha de Respostas da Prova Objetiva Múltipla Escolha, bem como as orientações e instruções expedidas pela FUNDEP durante a realização das provas, complementam o Edital e deverão ser rigorosamente observadas e seguidas pelo candidato. O candidato somente poderá se retirar do recinto de aplicação de prova após decorridas 2 horas de seu início. Durante a realização da Prova Objetiva, não será permitida a comunicação entre os candidatos, bem como consulta de qualquer natureza a livros, revistas, folhetos ou anotações e nem o uso de aparelhos eletrônicos ou eletromecânicos; como também o uso de boné, boina, chapéu, gorro, lenço ou qualquer outro acessório que impeça a visão total das orelhas do candidato; não será permitido, também, o uso de óculos escuros, sendo eliminado o candidato que descumprir essas determinações. Ao terminar a Prova Objetiva, o candidato entregará ao fiscal o Caderno de Provas, a Folha de Respostas da Prova Objetiva e o Caderno de Prova de Redação, devidamente assinados nos locais apropriados. Ao término do prazo estabelecido para a prova, os três últimos candidatos deverão permanecer na sala até que o último candidato termine sua prova, devendo todos assinar a Ata de Sala, atestando a idoneidade da fiscalização das provas, retirando-se da sala de prova de uma só vez.

O caderno de questões e o gabarito da Prova Objetiva serão divulgados no endereço eletrônico www.gestaodeconcursos.com.br no dia 29 de maio de 2017.

DURAÇÃO MÁXIMA DA PROVA: 4 (QUATRO) HORAS

ATENÇÃO

Sr.(a) Candidato(a),

Antes de começar a fazer a prova, confira se este caderno contém, ao todo, **40 (quarenta) questões de múltipla escolha**, cada uma constituída de 4 (quatro) alternativas de respostas, assim distribuídas: 10 (dez) questões de **Língua Portuguesa**, 5 (cinco) questões de **Matemática**, 5 (cinco) questões de **Legislação**, 20 (vinte) questões de **Conhecimentos Específicos** e o tema de **Redação**, todas perfeitamente legíveis.

Havendo algum problema, informe **imediatamente** ao aplicador de provas para que ele tome as providências necessárias.

Caso não observe essa recomendação, não lhe caberá qualquer reclamação ou recursos posteriores.

INSTRUÇÃO: Leia o texto, a seguir, para responder às questões de 1 a 10.

Risco pediátrico

O Tribunal de Contas da União (TCU) pediu acesso ao resultado de centenas de fiscalizações realizadas pelos Conselhos Regionais de Medicina (CRMs) ao longo de 2015. Em meio ao calhamaço de informações, um ponto se destaca: o descaso para com a infraestrutura da rede pública de atenção primária.

É justamente nas 41 mil unidades básicas de saúde (UBS) espalhadas pelo país que os pacientes deveriam ter acesso às ações de promoção da saúde, de prevenção de doenças e de cuidados.

Plenamente eficientes, ajudariam a reduzir a incidência de doenças e a controlar os problemas crônicos, com menos sequelas e mortes, esvaziando hospitais e, o que mais gostam de ouvir os gestores, diminuindo custos. Contudo, os dados mostram uma rede à margem de suas possibilidades. [...]

Das 1.266 UBS vistoriadas pelos CRMs em 2015, um total de 739 (58%) apresentava mais de 30 itens em desconformidade com o estabelecido pelas normas legais em vigor. Sob a responsabilidade dos atuais gestores, deixaram de cumprir exigências criadas pelo próprio Ministério da Saúde.

O descaso transparece em contextos incompatíveis com a dignidade humana e a responsabilidade técnica. Em 41% das unidades, não havia um negatoscópio (aparelho para avaliar uma radiografia) e a falta de estetoscópio foi registrada em 23% das fiscalizações.

A precariedade das instalações em locais onde a limpeza é fundamental também foi percebida. Em 3% das UBS visitadas não havia sanitários para os funcionários; em 8% faltavam pias ou lavabos; sabonete líquido e papel toalha eram itens faltantes em 16% das unidades.

A pediatria é uma das especialidades que mais sofrem com essa situação, que beira o surreal. No Brasil, há 35 mil especialistas na área. Pouco mais de 70% deles atuam na rede pública, principalmente nessa rede que carece de quase tudo. Mesmo assim, num contexto completamente adverso, eles têm se desdobrado para oferecer às crianças e adolescentes o mínimo do que precisam.

Por isso, cuidam da saúde de 50 milhões de brasileiros, com idades de 0 a 18 anos, que dependem exclusivamente do Sistema Único de Saúde (SUS) para ter acesso a consultas médicas, exames, internações e cirurgias. No entanto, no cenário atual, profissionais e pacientes enfrentam situações-limite, que causam desespero nas famílias e impõem dilemas éticos aos médicos, cerceados por fatores que fogem ao seu controle.

Em nome da saúde e do bem-estar dos jovens brasileiros, essa realidade deve ser transformada com urgência. Nesse contexto, a assistência pediátrica de qualidade tem de ser vista como prioridade, pois se ocupa fundamentalmente daqueles que, mais que todos, precisam de uma sociedade que respeite a cidadania.

SILVA, Luciana Rodrigues; FERREIRA, Sidnei. Risco pediátrico. *CFM*. Disponível em: <<http://migre.me/wf9Wn>>. Acesso em: 15 mar. 2017 (Fragmento adaptado).

QUESTÃO 1

Assinale o trecho que **melhor** justifica o título do texto.

- A) “A precariedade das instalações em locais onde a limpeza é fundamental também foi percebida.”
- B) “A falta de instalações adequadas, de equipamentos e insumos não permite que as equipes cumpram suas missões.”
- C) “Pouco mais de 70% deles atuam na rede pública, principalmente nessa rede que carece de quase tudo.”
- D) “Em meio ao calhamaço de informações, um ponto se destaca: o descaso para com a infraestrutura da rede pública de atenção primária.”

QUESTÃO 2

São motivos que, de acordo com o texto, indicam precariedade na infraestrutura da rede pública de atenção primária, **EXCETO**:

- A) Falta de equipamentos médicos.
- B) Falta de materiais de higiene.
- C) Falta de infraestrutura.
- D) Falta de profissionais capacitados.

QUESTÃO 3

São elementos utilizados pelos autores no decorrer do texto, **EXCETO**:

- A) Ironia.
- B) Dados estatísticos.
- C) Argumentação lógica, por causa e consequência.
- D) Apelo sentimental.

QUESTÃO 4

Releia o trecho a seguir.

“No entanto, no cenário atual, profissionais e pacientes enfrentam situações-limite, que causam desespero nas famílias e impõem dilemas éticos aos médicos, **cerceados** por fatores que fogem ao seu controle.”

O verbo “cercear”, destacado nesse trecho, pode ser substituído por:

- A) abolir
- B) limitar.
- C) suprimir.
- D) cortar.

QUESTÃO 5

Releia o trecho a seguir.

“Plenamente eficientes, ajudariam a reduzir a incidência de doenças e a controlar os problemas crônicos, com menos sequelas e mortes, esvaziando hospitais e, o que mais gostam de ouvir os gestores, diminuindo custos. **Contudo**, os dados mostram uma rede à margem de suas possibilidades.”

Assinale a alternativa em que a reescrita do trecho mantém o sentido original desse trecho.

- A) Plenamente eficientes, ajudariam a reduzir a incidência de doenças e a controlar os problemas crônicos, com menos sequelas e mortes, esvaziando hospitais e, o que mais gostam de ouvir os gestores, diminuindo custos. **Portanto**, os dados mostram uma rede à margem de suas possibilidades.
- B) Plenamente eficientes, ajudariam a reduzir a incidência de doenças e a controlar os problemas crônicos, com menos sequelas e mortes, esvaziando hospitais e, o que mais gostam de ouvir os gestores, diminuindo custos. **Todavia**, os dados mostram uma rede à margem de suas possibilidades.
- C) Plenamente eficientes, ajudariam a reduzir a incidência de doenças e a controlar os problemas crônicos, com menos sequelas e mortes, esvaziando hospitais e, o que mais gostam de ouvir os gestores, diminuindo custos. **Consequentemente**, os dados mostram uma rede à margem de suas possibilidades.
- D) Plenamente eficientes, ajudariam a reduzir a incidência de doenças e a controlar os problemas crônicos, com menos sequelas e mortes, esvaziando hospitais e, o que mais gostam de ouvir os gestores, diminuindo custos. **Conforme**, os dados mostram uma rede à margem de suas possibilidades.

QUESTÃO 6

Assinale a alternativa cuja ideia entre colchetes **não** está presente no respectivo trecho.

- A) “Das 1.266 UBS vistoriadas pelos CMRs em 2015, um total de 739 (58%) apresentava mais de 30 itens em desconformidade com o estabelecido pelas normas legais em vigor.” [MAIORIA]

- B) “Em meio ao calhamaço de informações, um ponto se destaca: o descaso para com a infraestrutura da rede pública de atenção primária.” [EXCLUSIVIDADE]
- C) “[...] essa realidade deve ser transformada com urgência.” [PREMÊNIA]
- D) “Pouco mais de 70% deles atuam na rede pública, principalmente nessa rede que carece de quase tudo.” [MAIORIA]

QUESTÃO 7

Releia o trecho a seguir.

“A precariedade das instalações em locais **onde** a limpeza é fundamental também foi percebida.”

Em relação à palavra destacada, de acordo com a norma padrão da língua portuguesa, assinale alternativa **CORRETA**.

- A) É usada com verbos que indicam movimento.
- B) Pode ser substituída por “aonde”.
- C) Foi utilizado corretamente, assim como em “Existem lances onde os juizes erram”.
- D) Pode ser substituída pela locução “em que”.

QUESTÃO 8

Releia o trecho a seguir.

“[...] os dados mostram uma rede **à margem de** suas possibilidades.”

De acordo com o que pode ser interpretado do texto, a locução destacada indica que a rede:

- A) necessita de melhor infraestrutura.
- B) é superdimensionada.
- C) poderia ser melhor aproveitada.
- D) atende um método de pacientes superior ao que é capaz.

QUESTÃO 9

Releia o trecho a seguir.

“Em 41% das unidades, não havia um negatoscópio (aparelho para avaliar uma radiografia) [...]”

De acordo com a norma padrão da língua portuguesa e com o contexto em que aparecem, assinale a alternativa **incorreta** sobre o uso dos parênteses.

- A) Podem ser substituídos por travessões.
- B) Servem para inserir uma nova informação no texto.
- C) Podem ser substituídos por vírgulas.
- D) Servem para demarcar uma oração fora do contexto textual.

QUESTÃO 10

Releia o trecho a seguir.

“[...] eles têm se desdobrado para oferecer às crianças e adolescentes o mínimo do que precisam.”

Analise as afirmativas a seguir a respeito do acento indicativo de crase desse trecho.

- I. É regido pelo verbo “oferecer”.
- II. Indica a fusão de um artigo com uma preposição.
- III. É facultativo.

De acordo com a norma padrão da língua portuguesa, estão **corretas** as afirmativas:

- A) I e II, apenas.
- B) I e III, apenas.
- C) II e III, apenas.
- D) I, II e III.

MATEMÁTICA

QUESTÃO 11

Observe o gráfico que mostra o número de desempregados no Brasil no período de 2003 a 2014.



A partir dos dados apresentados no gráfico, é **possível** afirmar que:

- A) houve uma diminuição do número de desempregados de 2008 para 2009.
- B) o ano em que houve o maior número de desempregados foi 2014.
- C) houve um aumento do número de desempregados de 2012 para 2013.
- D) o número de desempregados aumentou de 2005 para 2006.

QUESTÃO 12

Observe a tabela que mostra as contas que Mariana paga mensalmente utilizando o débito automático em sua conta bancária.

Conta	Valor	Data do débito automático
Água	R\$ 124,15	Todo dia 10 de cada mês
Energia elétrica	R\$ 185,10	
Telefone	R\$ 132,52	

No dia 8 de fevereiro de 2017, ela foi ao banco e verificou que o saldo de sua conta corrente estava negativo em R\$ 358,00.

Quanto Mariana teve que depositar para que no dia 12 de fevereiro tivesse um saldo positivo de R\$ 150,00?

- A) R\$ 441,77
- B) R\$ 799,77
- C) R\$ 817,77
- D) R\$ 949,77

QUESTÃO 13

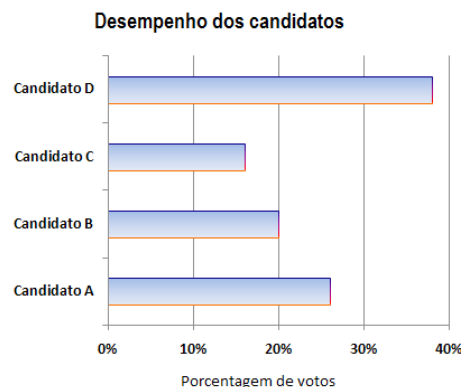
João participou da última edição da Volta Internacional da Pampulha, uma das grandes provas do calendário brasileiro, realizada no primeiro domingo de dezembro em Belo Horizonte. O percurso total dessa prova é de 17,8 km. João conseguiu percorrer 9,75 km da prova.

Quantos quilômetros faltaram para ele concluir o percurso?

- A) 28,55 km
- B) 17,80 km
- C) 9,75 km
- D) 8,05 km

QUESTÃO 14

Observe o gráfico que mostra o desempenho de quatro candidatos na eleição para presidente do Sindicato dos Servidores de Saúde da cidade de Pontal.



A sequência de candidatos que representa a classificação final dessa eleição em ordem decrescente é:

- A) C; B; A; D.
- B) D; B; A; C.
- C) D; A; B; C.
- D) C; D; A; B.

QUESTÃO 15

Veja, a seguir, a oferta da loja Magazine Bom Preço:

Aproveite a Promoção!
Forno Micro-ondas
De R\$ 720,00
Por apenas R\$ 504,00

Nessa oferta, o desconto é de:

- A) 70%.
- B) 50%.
- C) 30%.
- D) 10%.

LEGISLAÇÃO

QUESTÃO 16

Entre os conselheiros do Conselho Federal de Medicina, **não** há representantes:

- A) dos municípios.
- B) dos estados da Federação.
- C) do Distrito Federal.
- D) da Associação Médica Brasileira.

QUESTÃO 17

Analise as seguintes afirmativas sobre os processos relativos a infrações ético-profissionais no âmbito dos Conselhos Regionais e Federal de Medicina.

- I. A competência para apreciar e julgar as infrações é do Conselho Regional de Medicina, que detém a inscrição do médico ao tempo da ocorrência do ato punível.
- II. A sindicância só será instalada mediante denúncia, não se admitindo a instauração de ofício.
- III. Os recursos contra a aplicação de penalidades só terão efeito suspensivo, salvo no caso de cassação do registro profissional.

Segundo o que dispõe o *Código de Processo Ético-Profissional*, está(ão) **correta(s)** a(s) afirmativa(s):

- A) I, apenas.
- B) I e II, apenas.
- C) III, apenas.
- D) I, II e III.

QUESTÃO 18

A responsabilidade pelas informações prestadas aos Conselhos Federal e Regionais de Medicina por empresas, instituições, entidades ou estabelecimentos prestadores e / ou intermediadores de assistência à saúde é do seu:

- A) diretor-presidente.
- B) diretor jurídico.
- C) diretor-médico.
- D) representante legal.

QUESTÃO 19

Compõem a Comissão Mista de Especialidade, que tem a competência de definir as especialidades médicas no país, **EXCETO**:

- A) Conselho Federal de Medicina – CFM.
- B) Associação Médica Brasileira – AMB.
- C) Comissão Nacional de Residência Médica – CNRM.
- D) Associação Brasileira de Educação Médica – ABEM.

QUESTÃO 20

Segundo o *Código de Processo Ético-Profissional de Medicina*, no âmbito dos Conselhos Federal e Regionais de Medicina, o relatório conclusivo de uma comissão de sindicância pode indicar diversos encaminhamentos, entre os quais **não** se inclui:

- A) o arquivamento da sindicância.
- B) a conciliação.
- C) a imediata comunicação do fato à autoridade competente do Ministério Público.
- D) a instauração de processo ético-profissional.

CONHECIMENTOS ESPECÍFICOS

TÉCNICO EM INFORMÁTICA

QUESTÃO 21

Assinale a alternativa que apresenta **corretamente** o diretório responsável por armazenar os executáveis de alguns comandos básicos do sistema Linux.

- A) /bin
- B) /dev
- C) /var/log
- D) /tmp

QUESTÃO 22

Assinale a alternativa que apresenta o programa semelhante aos vírus, capaz de se propagar automaticamente pelas redes, autorreplicando-se, ou seja, criando cópias de si mesmo de computador para computador.

- A) Wrom
- B) Spyware
- C) Backdoor
- D) Trojan

QUESTÃO 23

O Modelo OSI é um modelo de rede de computador baseado em uma proposta desenvolvida da ISO, dividido em camadas de funções.

Assinale a alternativa que apresenta a camada que contém uma série de protocolos comumente necessários para os usuários.

- A) Camada de transporte
- B) Camada de sessão
- C) Camada de enlace de dados
- D) Camada de aplicação

QUESTÃO 24

Qual é o comando utilizado no sistema operacional Linux com objetivo de criar diretórios?

- A) ls
- B) mkdir
- C) mv
- D) ln

QUESTÃO 25

Assinale a alternativa que apresenta **corretamente** um tipo de protocolo de criptografia que pode ser ativado ao FTP dos sistemas Linux, com objetivo de gerar mais segurança.

- A) TLS
- B) JAVA
- C) HTTP
- D) BOOTP

QUESTÃO 26

Assinale a alternativa que apresenta **corretamente** o protocolo que permite as atribuições manual e automática de endereços de IP.

- A) DHCP
- B) HTTP
- C) TCP
- D) DNS

QUESTÃO 27

Um procedimento simples para melhorar o desempenho é gravar páginas que foram visitadas na web.

Qual é o nome da técnica utilizada para guardar páginas web para o uso subsequente?

- A) Developer
- B) Cache
- C) Upload
- D) SHA-1

QUESTÃO 28

Assinale a alternativa que apresenta **corretamente** um conjunto de aplicações do Windows Server 2008 R2 que permitem configurar e gerir os vários componentes do servidor.

- A) Administrative Tools
- B) Organizational Units
- C) Hyper-V
- D) Editor do registro

QUESTÃO 29

Assinale a alternativa que apresenta o serviço do Windows Server que mantém e gerencia acesso à informação dos objetos de rede, como as contas de usuários e as impressoras.

- A) DNS
- B) Active Directory
- C) VMware
- D) Administrative Templates

QUESTÃO 30

Qual é o sistema de segurança que controla o acesso a serviços de rede, podendo autorizar ou negar o acesso a esses serviços em função de sua configuração?

- A) BOOTP
- B) TC/IP
- C) Firewall
- D) Gateway

QUESTÃO 31

Assinale a alternativa que apresenta **corretamente** a função da ferramenta Windows System Resource Manager (WSRM).

- A) Determinar a forma com que os recursos de processador e memória são atribuídos às aplicações, aos serviços e aos processos.
- B) Analisar o tráfego de rede.
- C) Monitorar e gerir uma rede.
- D) Definir alterações de registro

QUESTÃO 32

Assinale a alternativa que apresenta o comando que possibilita a visualização do número do gateway padrão, via prompt de comando, em computador com o sistema operacional Windows 7.

- A) print
- B) ping
- C) replace
- D) ipconfig

QUESTÃO 33

Prompt de comando é um interpretador de linha de comando de sistemas baseados no Windows NT.

Assinale a alternativa que apresenta **corretamente** o comando usado para recuperar informações legíveis de um disco defeituoso ou danificado.

- A) RECOVER
- B) VERIFY
- C) TYPE
- D) XCOPY

QUESTÃO 34

Assinale a alternativa que apresenta **corretamente** o termo utilizado para se referir ao processo de inicialização de um computador, até o total carregamento do sistema operacional.

- A) BOOT
- B) EFI
- C) SO
- D) ISO

QUESTÃO 35

Qual é o sistema que consiste na utilização de vários discos ligados a uma placa controladora especial e que são "vistos" pelo sistema como apenas um?

- A) ISO
- B) UTF-8
- C) IDE
- D) RAID

QUESTÃO 36

O que deverá ocorrer ao acessar o prompt de comando (CMD) do sistema operacional Windows 7 e executar o comando TREE?

- A) Será exibida, de forma gráfica, a estrutura de pastas de uma unidade ou caminho.
- B) Será associado um caminho a uma letra de unidade.
- C) Será verificada a versão do sistema operacional.
- D) Serão copiados arquivos e árvores de diretórios.

QUESTÃO 37

Assinale a alternativa que apresenta a implementação de redundância que consiste no agrupamento de um grupo de computadores ligados entre si, visto na rede como um único.

- A) POWESHELL
- B) CLUSTER
- C) NLB
- D) IFM

QUESTÃO 38

Assinale a alternativa que apresenta o tipo de memória que oferece tempos de acesso mais baixos que o HD e trabalha com taxas de transferência muito mais altas, além de perder os dados armazenados quando o computador é desligado.

- A) RAM
- B) ROM
- C) SSD
- D) CD

QUESTÃO 39

Assinale a alternativa que apresenta o tipo de protocolo padrão que permite o envio de e-mail e cujos serviços são usados geralmente por aplicações web.

- A) SSH
- B) LDAP
- C) RTP
- D) SMTP

QUESTÃO 40

Quais são as teclas que, se pressionadas juntas no MS Word, acionarão a opção para localizar um texto no documento aberto?

- A) Ctrl+L
- B) Ctrl+X
- C) Alt+g
- D) Ctrl+alt+e

INSTRUÇÕES GERAIS

1. A Prova de Redação deverá conter **no mínimo 18** (dezoito) e **no máximo 30** (trinta) linhas.
2. O que for escrito além do espaço destinado ao candidato para a redação (30 linhas) não será corrigido, sendo o candidato penalizado pelos problemas de compreensão de seu texto (PO, M, CC e / ou CP).
3. Somente serão corrigidas as provas redigidas com caneta esferográfica de tinta azul ou preta, não sendo permitido uso de lápis ou corretivo de texto.
4. O candidato somente poderá apor seu número de inscrição, nome ou assinatura em lugar especificamente indicado para tal finalidade, sob pena de anulação da prova de redação e consequente eliminação do concurso, caso proceda de forma contrária.
5. Não serão fornecidas folhas adicionais para complementação da redação, devendo o candidato limitar-se a uma única folha padrão recebida.

CRITÉRIOS DE AVALIAÇÃO DA PROVA DE REDAÇÃO		
ASPECTOS AVALIADOS	TOTAL DE PONTOS	PONTOS DESCONTADOS POR ERRO
Pontuação, acentuação e ortografia (PO).	5,0 pontos	0,25
Morfossintaxe (emprego dos pronomes, concordância verbal e nominal, oração e período, vozes do verbo) (M).	5,0 pontos	0,25
Coesão e coerência (CC).	5,0 pontos	1,0
Compreensão / conhecimento do conteúdo proposto e propriedade da resposta à temática (CP).	5,0 pontos	1,0
TOTAL	20 pontos	

TEXTO I

Gastos em saúde e o PIB em 35 países

A tabela a seguir estruturada mostra os dados disponibilizados em 2015 pela OCDE [Organização para a Cooperação e o Desenvolvimento Econômico] sobre Gastos Nacionais em Saúde – dispêndios totais como percentual do Produto Interno Bruto (PIB), dispêndios do setor público como % do PIB e gastos totais *per capita* – para os 34 países que compõem a OCDE, além do Brasil.

[...]

Os dados econômicos aqui listados são os consolidados para o ano de 2012. A coluna de população por país, no entanto, fornece o dado mais atual, ou seja, de fevereiro de 2016. [...]

POPULAÇÃO E GASTOS EM SAÚDE EM 35 PAÍSES				
PAÍS	POPULAÇÃO (em milhões) 2016	GASTOS EM SAÚDE em % do PIB (2012)		
		Total	Público	<i>Per capita</i> (em US\$)
Alemanha	79,7	11,0	8,3	4.819
Austrália	23,8	8,8	5,9	3.866
Áustria	8,4	10,1	7,7	4.553
Bélgica	11,2	10,1	8,0	4.256
Canadá	35,9	10,2	7,2	4.351
Chile	18,1	7,3	3,4	1.606
Coreia	50,5	6,9	3,8	2.275
Dinamarca	5,6	10,4	8,8	4.553
Eslováquia	5,4	7,6	5,6	2.010
Eslovênia	2,0	8,7	6,2	2.511
Espanha	47,9	8,8	6,7	2.898
Estados Unidos	326,8	16,4	7,9	8.414
Estônia	1,3	6,2	4,8	1.542
Finlândia	5,4	8,6	6,5	3.442
França	67,0	10,9	8,6	4.124
Grécia	11,1	9,2	6,0	2.366
Holanda	17,0	11,1	9,7	5.131
Hungria	9,8	7,4	4,4	2.428
Irlanda	4,8	8,1	5,5	3.663
Islândia	0,3	8,7	7,1	3.677
Israel	8,4	7,5	4,4	2.428
Itália	60,6	8,8	6,8	3.077
Japão	126,1	10,2	8,5	3.173
Luxemburgo	0,6	6,6	5,5	4.371
México	126,4	6,2	3,2	1.048
Noruega	5,1	8,9	7,6	5.862
Nova Zelândia	4,6	9,5	7,6	3.328
Polônia	38,4	6,4	4,5	1.530
Portugal	10,6	9,1	6,1	2.514
Reino Unido	65,1	8,5	7,0	3.235
Rep. Checa	10,5	7,1	6,0	2.040
Suécia	9,6	11,0	9,2	4.904
Suíça	8,1	11,1	7,3	6.235
Turquia	77,8	5,1	4,0	941
OCDE*	1.283,4	8,9	6,5	3.453
BRASIL**	208,1	8,0	3,6	970

*: Dados da OCDE – População total. Gastos em saúde = média

** : Dados do Brasil sobre gastos em saúde são de 2.013

Disponível em: <<http://mundoseculoxxi.com.br/?p=2742>>. Acesso em: 19 abr. 2017 (Adaptação).

TEXTO II

PEC 01/2015

Aumentará o limite dos gastos do governo federal com a Saúde, obrigando o governo a investir 10% da receita corrente bruta (Saúde+10).

Esta PEC determinará que a União deverá investir, pelo menos, 19,4% de sua receita corrente líquida em ações e serviços públicos de saúde ao final de seis anos, o que equivale a 10% da receita corrente bruta.

Pela lei atual, a União deve investir na Saúde 13,2% da receita corrente líquida para 2016, subindo até 15% em 2020.

Esta PEC tem origem no projeto de lei de iniciativa popular (PLP 321/13) conhecido como Saúde+10.

Segundo o deputado [propositor do Projeto – Vanderlei Macris], o Governo Federal tem diminuído a cada ano a sua participação relativa no financiamento do Sistema Único de Saúde. No ano de 2000, a União respondia por 59% dos recursos em saúde pública. Em 2013, os estados e municípios passaram a ser responsáveis por bancar 56% do custeio do SUS, enquanto a participação da União caiu para 44%.

Disponível em: <<https://goo.gl/mfUyr4>>. Acesso em: 27 mar. 2017 (Adaptação).

PROPOSTA DE REDAÇÃO

Com base na leitura dos textos motivadores e nos conhecimentos construídos ao longo de sua formação, **REDIJA** um texto dissertativo-argumentativo em norma padrão da língua portuguesa, **posicionando-se a favor ou contra a PEC 01/2015**.

Para tanto, apresente sua opinião respeitando os Direitos Humanos. Selecione, organize e relacione, de forma coerente e coesa, argumentos e fatos para a defesa de seu ponto de vista. A transcrição parcial ou total do texto não será considerada para efeito de correção e contabilização do número de linhas.

RASCUNHO DA REDAÇÃO

1	
2	
3	
4	
5	
6	
7	
8	
9	
10	
11	
12	
13	
14	
15	
16	
17	
18	
19	
20	
21	
22	
23	
24	
25	
26	
27	
28	
29	
30	

FOLHA DE RESPOSTAS (RASCUNHO)

01	A	B	C	D	21	A	B	C	D
	<input type="checkbox"/>	<input type="checkbox"/>	<input type="checkbox"/>	<input type="checkbox"/>		<input type="checkbox"/>	<input type="checkbox"/>	<input type="checkbox"/>	<input type="checkbox"/>
	A	B	C	D	22	A	B	C	D
02	<input type="checkbox"/>	<input type="checkbox"/>	<input type="checkbox"/>	<input type="checkbox"/>		<input type="checkbox"/>	<input type="checkbox"/>	<input type="checkbox"/>	<input type="checkbox"/>
	A	B	C	D	23	A	B	C	D
03	<input type="checkbox"/>	<input type="checkbox"/>	<input type="checkbox"/>	<input type="checkbox"/>		<input type="checkbox"/>	<input type="checkbox"/>	<input type="checkbox"/>	<input type="checkbox"/>
	A	B	C	D	24	A	B	C	D
04	<input type="checkbox"/>	<input type="checkbox"/>	<input type="checkbox"/>	<input type="checkbox"/>		<input type="checkbox"/>	<input type="checkbox"/>	<input type="checkbox"/>	<input type="checkbox"/>
	A	B	C	D	25	A	B	C	D
05	<input type="checkbox"/>	<input type="checkbox"/>	<input type="checkbox"/>	<input type="checkbox"/>		<input type="checkbox"/>	<input type="checkbox"/>	<input type="checkbox"/>	<input type="checkbox"/>
	A	B	C	D	26	A	B	C	D
06	<input type="checkbox"/>	<input type="checkbox"/>	<input type="checkbox"/>	<input type="checkbox"/>		<input type="checkbox"/>	<input type="checkbox"/>	<input type="checkbox"/>	<input type="checkbox"/>
	A	B	C	D	27	A	B	C	D
07	<input type="checkbox"/>	<input type="checkbox"/>	<input type="checkbox"/>	<input type="checkbox"/>		<input type="checkbox"/>	<input type="checkbox"/>	<input type="checkbox"/>	<input type="checkbox"/>
	A	B	C	D	28	A	B	C	D
08	<input type="checkbox"/>	<input type="checkbox"/>	<input type="checkbox"/>	<input type="checkbox"/>		<input type="checkbox"/>	<input type="checkbox"/>	<input type="checkbox"/>	<input type="checkbox"/>
	A	B	C	D	29	A	B	C	D
09	<input type="checkbox"/>	<input type="checkbox"/>	<input type="checkbox"/>	<input type="checkbox"/>		<input type="checkbox"/>	<input type="checkbox"/>	<input type="checkbox"/>	<input type="checkbox"/>
	A	B	C	D	30	A	B	C	D
10	<input type="checkbox"/>	<input type="checkbox"/>	<input type="checkbox"/>	<input type="checkbox"/>		<input type="checkbox"/>	<input type="checkbox"/>	<input type="checkbox"/>	<input type="checkbox"/>
	A	B	C	D	31	A	B	C	D
11	<input type="checkbox"/>	<input type="checkbox"/>	<input type="checkbox"/>	<input type="checkbox"/>		<input type="checkbox"/>	<input type="checkbox"/>	<input type="checkbox"/>	<input type="checkbox"/>
	A	B	C	D	32	A	B	C	D
12	<input type="checkbox"/>	<input type="checkbox"/>	<input type="checkbox"/>	<input type="checkbox"/>		<input type="checkbox"/>	<input type="checkbox"/>	<input type="checkbox"/>	<input type="checkbox"/>
	A	B	C	D	33	A	B	C	D
13	<input type="checkbox"/>	<input type="checkbox"/>	<input type="checkbox"/>	<input type="checkbox"/>		<input type="checkbox"/>	<input type="checkbox"/>	<input type="checkbox"/>	<input type="checkbox"/>
	A	B	C	D	34	A	B	C	D
14	<input type="checkbox"/>	<input type="checkbox"/>	<input type="checkbox"/>	<input type="checkbox"/>		<input type="checkbox"/>	<input type="checkbox"/>	<input type="checkbox"/>	<input type="checkbox"/>
	A	B	C	D	35	A	B	C	D
15	<input type="checkbox"/>	<input type="checkbox"/>	<input type="checkbox"/>	<input type="checkbox"/>		<input type="checkbox"/>	<input type="checkbox"/>	<input type="checkbox"/>	<input type="checkbox"/>
	A	B	C	D	36	A	B	C	D
16	<input type="checkbox"/>	<input type="checkbox"/>	<input type="checkbox"/>	<input type="checkbox"/>		<input type="checkbox"/>	<input type="checkbox"/>	<input type="checkbox"/>	<input type="checkbox"/>
	A	B	C	D	37	A	B	C	D
17	<input type="checkbox"/>	<input type="checkbox"/>	<input type="checkbox"/>	<input type="checkbox"/>		<input type="checkbox"/>	<input type="checkbox"/>	<input type="checkbox"/>	<input type="checkbox"/>
	A	B	C	D	38	A	B	C	D
18	<input type="checkbox"/>	<input type="checkbox"/>	<input type="checkbox"/>	<input type="checkbox"/>		<input type="checkbox"/>	<input type="checkbox"/>	<input type="checkbox"/>	<input type="checkbox"/>
	A	B	C	D	39	A	B	C	D
19	<input type="checkbox"/>	<input type="checkbox"/>	<input type="checkbox"/>	<input type="checkbox"/>		<input type="checkbox"/>	<input type="checkbox"/>	<input type="checkbox"/>	<input type="checkbox"/>
	A	B	C	D	40	A	B	C	D
20	<input type="checkbox"/>	<input type="checkbox"/>	<input type="checkbox"/>	<input type="checkbox"/>		<input type="checkbox"/>	<input type="checkbox"/>	<input type="checkbox"/>	<input type="checkbox"/>

AO TRANSFERIR ESSAS MARCAÇÕES PARA A FOLHA DE RESPOSTAS,
OBSERVE AS INSTRUÇÕES ESPECÍFICAS DADAS NA CAPA DA PROVA.

USE CANETA ESFEROGRÁFICA AZUL OU PRETA.

**ATENÇÃO:
AGUARDE AUTORIZAÇÃO
PARA VIRAR O CADERNO DE PROVA.**